

2026年度

2月2日午前入試

社 会

- 注意
- 1 開始の“チャイム”が鳴るまで中を見てはいけません。
 - 2 答えはすべて解答用紙の解答らんにはっきり書きなさい。
 - 3 特別な指示のない限り、漢字で書くべきところは漢字で答えなさい。
 - 4 終わりの“チャイム”が鳴ったら、とちゅうでもやめなさい。
 - 5 問題のページは、3-1から3-10まであります。

1. 新潟県新潟市に住む凛^{りん}さんは、夏休みに東京都渋谷区へ旅行に出かけました。下の図1の①～⑤は、通過した都県をあらわしています。また、太線で高速道路が記されています。図1をみて、あとの問いに答えなさい。

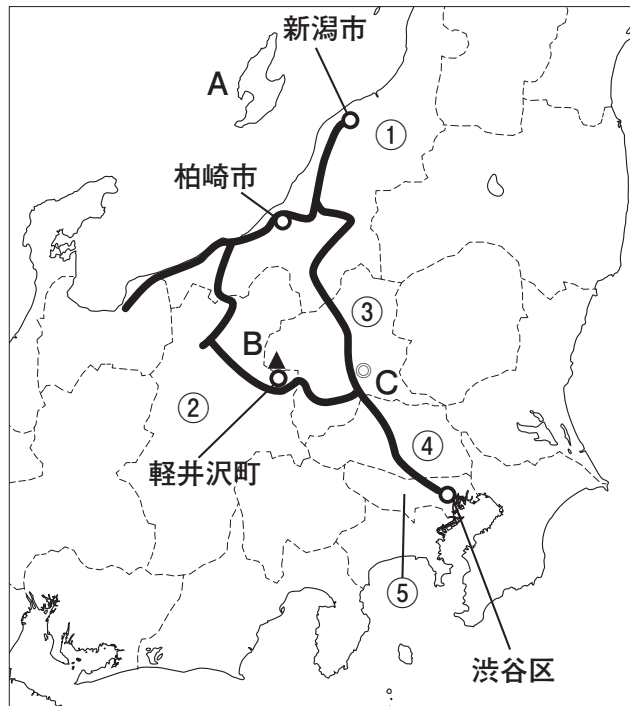


図1

- (1) ①の県について、あとの問いに答えなさい。

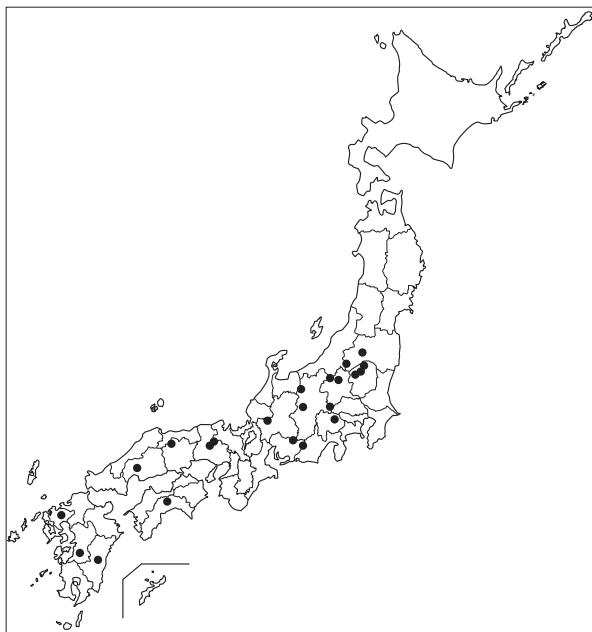
問1 新潟市の西方およそ50kmの海上に、面積約855km²の大きな島が存在しています。この島は、日本の主要四島や沖縄、北方領土を除くと最も大きな島です。図1中のAの島の名前を答えなさい。

問2 新潟市の人口はおよそ76万人で、この県の中でも大きな都市になっています。新潟市の特徴^{とくちょう}やくらしの工夫として、まちがっているものを、次のア～エから1つ選び、記号で答えなさい。

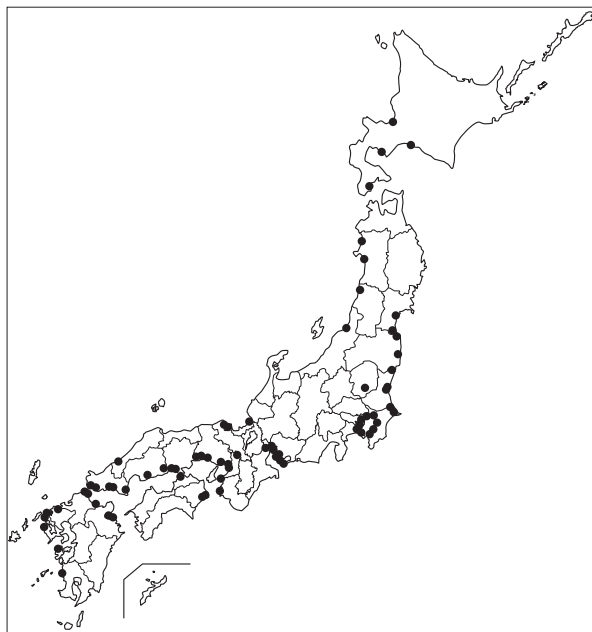
- ア. 東京を中心とする企業^{きぎょう}の支店や、地域を代表する企業などが集まっている。
- イ. 交通アクセスが良いため、東京方面へ若い人口が流出している。
- ウ. 冬は豪雪^{ごうせつ}に見舞われるため、積雪への対応として信号機がたて型になっている場所がある。
- エ. 雪道での事故を防ぐため、滑りにくい路面^{すべ}の整備や、急カーブを増やしている。

問3 ^{かしわざき} 柏崎市を通った凧さんは、この地域に原子力発電所があることを知りました。図ア～エは、日本における「原子力」「火力」「水力」「地熱」のいずれかの発電所の位置をしめしています。原子力発電所の位置をしめす図を、次のア～エから1つ選び、記号で答えなさい。
 (※下の図ア～エには柏崎市の発電所はえがかれていません。)

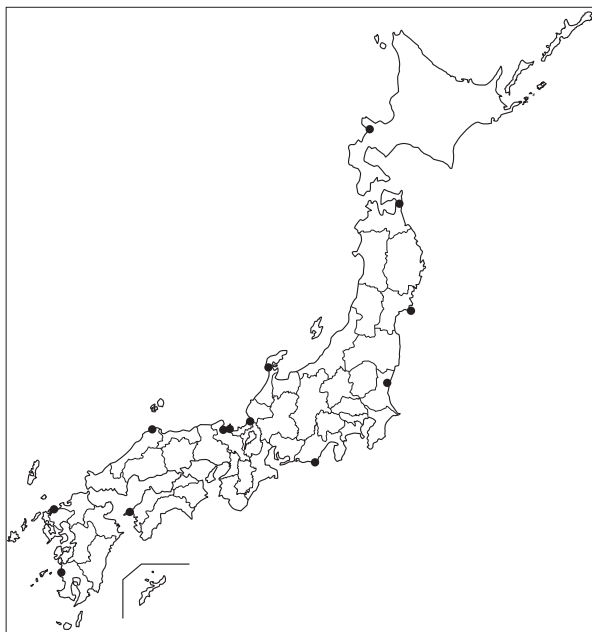
ア



イ



ウ



エ



(2) ②の県について、あとの問いに答えなさい。

問1 凧さんは、この県で千曲川を見ました。この川は、自身の住む新潟市まで流れていますが、新潟県内では名前が変わります。この川は日本で一番長い川としても知られています。この川の新潟県内での名前を答えなさい。

問2 この県では、第二次世界大戦のころに通信機器など精密な機械の工場が移転してきた影響や、製造した機器の洗じょう・冷きやくに必要な、きれいな水資源にめぐまれているなどの理由で、現在も特定の工業製品の製造がさかんとなっています。現在この県で多く生産されている工業製品の組み合わせとして正しいものを、次のア～エから1つ選び、記号で答えなさい。

- ア. 自動車 うで時計 イ. 自動車 タオル
ウ. パソコン うで時計 エ. パソコン タオル

問3 この県は、農産物の生産もさかんです。下の表1のア～エは、「ぶどう」「レタス」「そば」「白菜」のいずれかの上位4位までの県別収穫量をあらわしています。「ぶどう」をしめしている表を、次のア～エから1つ選び、記号で答えなさい。表1中の②～④は図1に対応しています。

ア		イ		ウ		エ	
都道府県	収穫量(トン)	都道府県	収穫量(トン)	都道府県	収穫量(トン)	都道府県	収穫量(トン)
北海道	13,700	茨城	249,100	山梨	41,700	②	181,500
茨城	3,050	②	224,500	②	31,400	茨城	84,000
②	2,960	③	25,700	岡山	15,300	③	58,200
山形	2,250	④	23,400	山形	13,800	長崎	35,200

※) 収穫量の年度はすべて2023年のデータ。 (『データでみる県勢2025』(矢野恒太記念会)に基づいて作成)

表1

問4 凧さんは、避暑地としても有名な軽井沢町の観光をおこないました。軽井沢町は、古くから交通の要所として栄え、江戸時代には宿場町がおかれてにぎわいました。軽井沢宿ととなりあう沓掛宿と追分宿を合わせた3つの宿場町は、北方にそびえる山の名前をとって「〇〇三宿」とよばれていました。江戸時代の中ごろに噴火したことで知られる図1中のBのこの山の名前を次のア～エから1つ選び、記号で答えなさい。

- ア. 浅間山 イ. 有珠山 ウ. 富士山 エ. 雲仙(普賢)岳

問5 下の図2は、現在の軽井沢駅周辺をしめす国土地理院発行の1万分の1の地形図です。この地図の説明AとBの文章を読んで、内容が正しいときは解答らんに「○」と書きなさい。まちがっているときは解答らんに「×」と書きなさい。



図2

- A. 軽井沢駅を出て北へのびる大通りを北へ進むと、すぐに右手に郵便局が見える。さらにしばらく進み、5つの道が交じり合う交差点をこえてさらに北へ進むと左側に図書館がある。
- B. 駅の南側には、多くのゴルフコースやスキー場などが確認でき、大自然を生かした屋外レジャーが楽しめるエリアがある。

(3) ③の県について、あとの問いに答えなさい。

問1 この県の県庁所在地である図1中のCの都市名を答えなさい。

問2 凜さんは、③の県が北関東工業地域の一部であると授業で習ったことを思い出しました。下の表2は日本の工業地帯・工業地域の出荷額とその内訳をあらわしています。ア～エには「北関東工業地域」「瀬戸内工業地域」「中京工業地帯」「阪神工業地帯」のいずれかがあてはまります。「北関東工業地域」を、次のア～エから1つ選び、記号で答えなさい。

	ア	京浜工業地帯	イ	ウ	エ
食品	3,037	5,267	4,015	2,763	5,270
せんい	437	238	379	629	193
化学	7,466	8,380	7,993	11,232	6,126
金属	6,794	4,924	8,575	7,895	5,342
電気機械	7,336	4,873	4,002	1,751	3,746
輸送機械	31,140	7,646	3,842	6,087	5,365
その他機械	5,229	5,251	6,851	3,130	5,159
総額	64,277	41,315	38,589	36,486	33,900

(出荷額の単位はすべて10億円)

※1) 表中の塗りつぶされている項目は、各工業製品の出荷額のうち工業地帯・工業地域で最大のものです。

※2) 輸送機械とは人や物を運ぶ機械のことで、自動車、飛行機、船などが含まれます。

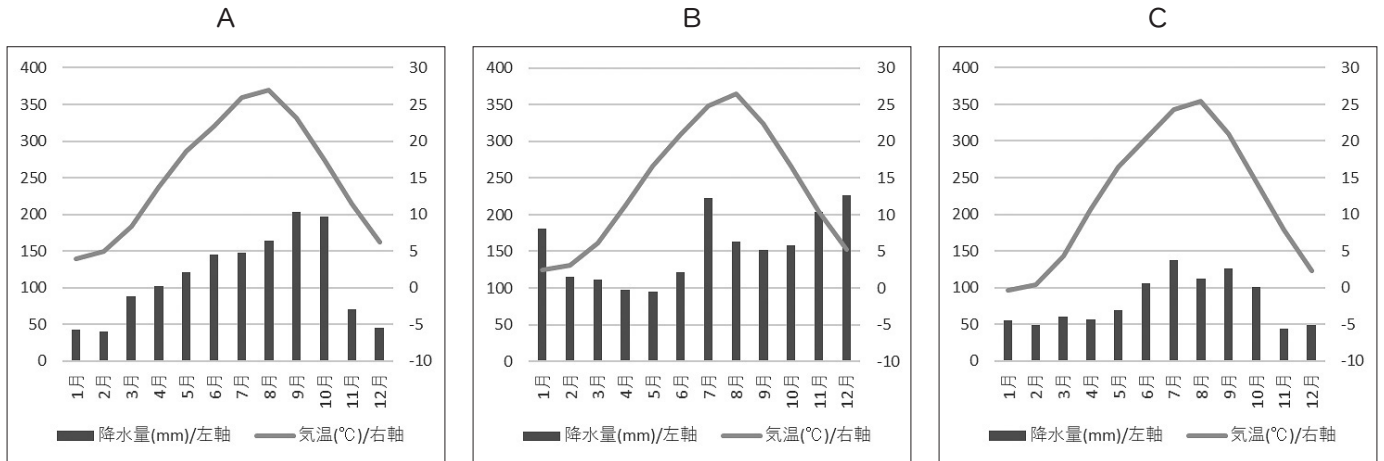
※3) 出荷額の数値はすべて2022年のデータ。

(『地理データファイル2025年度版』帝国書院に基づいて作成)

表2


(4) 凧さんは、④の県を通過しているときに、熊谷市という都市が日本一暑い市をPRしていることを知りました。そこで凧さんは、今回の旅行で通過した県の県庁所在地の気候のちがいを調べてみました。次のA～Cの雨温図は、新潟市、長野市、さいたま市のいずれかをしめています。都市名と雨温図の組み合わせが正しいものを、次のア～カから1つ選び、記号で答えなさい。

(図は、気象庁HPのデータより作成)



	ア	イ	ウ	エ	オ	カ
A	新潟市	新潟市	長野市	長野市	さいたま市	さいたま市
B	長野市	さいたま市	新潟市	さいたま市	新潟市	長野市
C	さいたま市	長野市	さいたま市	新潟市	長野市	新潟市

(5) 凧さんは、今回の旅行でいくつものキャラクターに出会いました。そして、各地のキャラクターには、都道府県や市区町村の特産品や、地域を代表する動植物、地域文化の特徴などがデザインにいかされていると気づきました。次のA～Cの3つのキャラクターは、今回の旅行で通った新潟市、長野県、渋谷区とくちょうのいずれかのキャラクターです。それぞれのキャラクターと都道府県や市区町村名の組み合わせが正しいものを、次のア～カから1つ選び、記号で答えなさい。



	ア	イ	ウ	エ	オ	カ
A	新潟市	新潟市	長野県	長野県	渋谷区	渋谷区
B	長野県	渋谷区	新潟市	渋谷区	新潟市	長野県
C	渋谷区	長野県	渋谷区	新潟市	長野県	新潟市

2. 次の会話文は中学生の生徒さくらさんが昨年(2025年)の夏休みに、歴史のレポートを作成するにあたって、高校生のお姉さんのみのりさんに相談している様子です。この会話文を読んで、あとの問いに答えなさい。

さくら：歴史の宿題のレポートのテーマがきまらないの。自由に選んでよいといわれても思いつかなくて。

みのり：では、今年(2025年)を基準に過去をふりかえってみるとよいのではないかな。

さくら：今年を基準とすると、例えば、10年前に①国連でSDGsが定められたのだよね。

みのり：そうだね。でも、SDGsをテーマとすると、歴史のレポートとしては少し難しいかもしれないね。

②今年は太平洋戦争終結後80年という節目の年となるの。

さくら：現在は、平和主義を原則の1つとする憲法を持つ国として戦争の放棄を宣言しているけれど、それまで日本は多くの戦争を経験してきたのだよね。

みのり：2025年は(あ)後130年、(い)後120年でもあるのだよね。

さくら：これからは戦争のない時代が100年、200年と続いて行ってほしいね。

みのり：日本だけでなく、世界中で戦争のない時代を目指していかなければいけないね。

(1) 下線部①に関連して、地球温暖化を防ぐために、学校生活の中でできる工夫を1つ説明しなさい。

(2) 下線部②について、1945年におきたできごととしてまちがっているものを次のア～エから1つ選び、記号で答えなさい。

ア. 広島と長崎に原子爆弾が落とされる。

イ. ソ連が満州、そして樺太南部・千島列島に攻めこむ。

ウ. 日本がハワイのアメリカ軍港を攻撃する。

エ. アメリカ軍が沖縄島に上陸する。

(3) 会話文中の空らん(あ)・(い)には、戦争の名前が入ります。これらの戦争の説明として正しいものを次のア～エからそれぞれ1つずつ選び、記号で答えなさい。

ア. 王政復古の号令の後におこなわれた、旧幕府軍と新政府軍の戦い。

イ. 西郷隆盛が新政府に不満をもつ士族たちとともに起こした戦い。

ウ. 朝鮮半島の支配権をめぐる対立した清との戦い。

エ. 満州に勢力を広げるロシアと対立し、起こった戦い。

みのり：7月に参議院議員選挙があったけれど、今年は(う)歳以上のすべて男性が衆議院議員選挙に投票できるとする法律が成立してから、ちょうど100年目にあたるんだ。そして、遅れること20年、太平洋戦争終結後に(え)歳以上の男女に衆議院議員選挙の投票権が認められた。

さくら：そして、10年前の法改正で(お)歳以上の男女に選挙権が与えられたんだね。7月の参議院議員選挙にお姉さんも初めて投票しに行ったんだよ。

みのり：140年前に内閣制度が誕生し、(か)がはじめての総理大臣に就任した。その時から考えると、女性が選挙権を得るまでに60年の時間がかかったのだね。

さくら：もっと前の時代をふりかえっていきいたいな。

みのり：今から500年前は戦国時代にあたるね。室町幕府がおとろえると、戦国大名が自分の支配する土地を守るために城をつくり、勢力を争う時代となったんだ。④戦いは戦国時代から安土桃山時代にかけて各地でくりひろげられていたんだ。

さくら：そして、最終的に⑤徳川家康が江戸幕府を開いて戦いの時代は終わったのね。

(8) 下線部④について、以下の屏風は1575年におきた戦いの様子をえがいたものです。この戦いでヨーロッパから伝来した武器をたくみに活用し勝利した大名の名前を答えなさい。



(9) 下線部⑤について、徳川家康がおこなったこととして正しいものを、次のア～エから1つ選び、記号で答えなさい。

- ア. 中国（明）を征服しようと、2度にわたり朝鮮に大軍を送った。
- イ. 安土城を築き、城下町ではだれでも商売ができるようにし、商業をさかんにした。
- ウ. 中国（明）との貿易をおこない、文化や芸術を保護し、金閣を建てた。
- エ. 関ヶ原の戦いに勝利し、征夷大將軍に任命され、全国の大名を支配した。

みのり：さらにさかのぼって、1000年前は藤原道長・頼通の親子が権力をにぎっていた時代だね。⑥この絵は、平安時代の貴族の邸宅だね。道長や頼通もこのような家でくらしていたのだろうね。

さくら：藤原氏というのは⑦大化の改新で活躍した中臣鎌足の子孫のことだよな。平安時代には自分の娘を天皇のきさきにして、天皇に代わって政治を動かすほどの力を持ったんだよね。

みのり：藤原道長の娘の彰子は一条天皇のきさきとなったのだけれど、その彰子に仕えたのが⑧紫式部だね。この時代は女性の文学作品が有名だよ。

(10) 下線部⑥について、この絵を説明した文章として正しいものを、次のア～エから1つ選び、記号で答えなさい。

- ア. 高い石のかべや土のかべでまわりを囲み、いくつもの門や広場がある。敵が攻めてきてもすぐ入れないように、道が曲がりくねっている。見はりをする建物もある。
- イ. 建物はかべのない開放的なつくりになっており、^{びょうぶ}屏風などで区切って使用される。^{しきち}敷地の中には広い庭や池がある。池に面して設けられた建物もあり、これらの建物どうしは渡り廊下でつながっている。
- ウ. 敷地は^{さく}柵で囲まれていて、その外周には堀がめぐらされている。入り口には警備する武士が見られ、敷地の中では馬や鷹^{たか}などが飼われている。また、武士が訓練する場所も確保されている。
- エ. 敷地は柵で囲まれていて、その外周には堀がめぐらされている。人々がくらす^{たてあな}竪穴住居のほかに^{たかいゆか}高床倉庫や見はりをする建物などがつくられている。

(11) 下線部⑦について、大化の改新より前のできごととして正しいものを、次のア～エから1つ選び、記号で答えなさい。

- ア. 北条氏が執権となり実権をにぎった。 イ. 聖徳太子が十七条の憲法を制定した。
- ウ. 聖武天皇が大仏をつくる命令を出した。 エ. 都が平城京から平安京に移された。

(12) 下線部⑧について、この人物がつくった物語の作品名を答えなさい。

さくら：最後に今から1500年くらい前についても教えてほしいな。

みのり：1500年前というと、古墳時代から飛鳥時代にかけてのころかな。このころ、⑨大陸から移り住んだ人々によってさまざまな文化が日本に伝えられたんだ。それらの^{えいきょう}影響を受けて時代は大きく変わっていったんだね。

さくら：⑩^{きやだい}巨大な古墳がつくられなくなったことも大きな変化と言えるね。

みのり：レポートをまとめる時にはそのできごとだけではなく、原因や結果も考察する必要があるね。レポートのテーマは決まったかな。

さくら：ええと、もう少し考えてみるね。

(13) 下線部⑨について、このような人々のことを何とよびますか、答えなさい。

(14) 下線部⑩について、古墳と関係のないものを、次の写真ア～エから1つ選び、記号で答えなさい。

ア



イ



ウ



エ



