

2020 年度

2月2日午後入試（第4回）

社 会

- 注意
- 1 開始の“チャイム”が鳴るまで中を見てはいけません。
 - 2 答えはすべて解答用紙の解答らんじんに、はっきり書きなさい。
 - 3 特別な指示のない限り、漢字で書くべきところは漢字で答えなさい。
 - 4 終わりの“チャイム”が鳴ったら、とちゅうでもやめなさい。
 - 5 問題のページは、4 - 1 から 4 - 8 まであります。

1. 次の文は、サクラさんと兄のミノル君の会話です。サクラさんは、夏休みの社会の研究課題として、おじさんが住む東北地方のことを調べることにしました。この地域の自然、気候、産業に注目して、今、ミノル君からアドバイスをもらいながら課題を作成しているところです。

図1をみて、会話文についてのあとの問いに答えなさい。

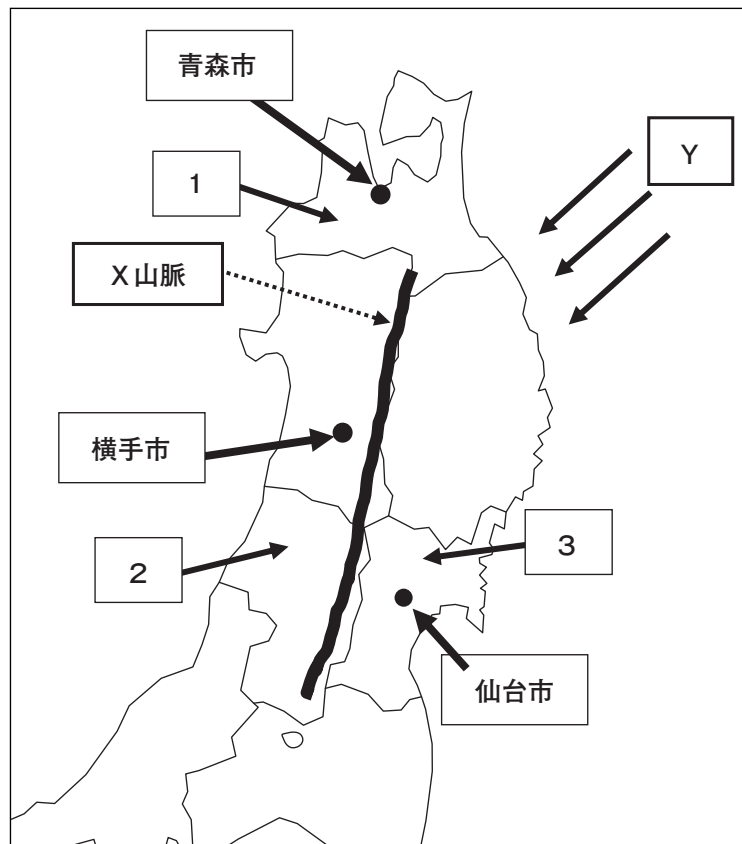


図1

サクラ：自然から話しましょうね。東北の気候は、(1) 山脈^{さかい}を境にして①東西で異なる気候が見られるのよね。

ミノル：東側では、夏に(2)という風が吹き、くもりの日が多くなり、気温が低くなって、米など農作物が不作になることがあるね。

(1) 上の文章中の空らん(1), (2)にあてはまる語句を答えなさい。ただし、(1)には図1中のX山脈、(2)にはYがしめしている風がはいります

(2) 下線部①について、表1の①～③は、青森市、横手市、仙台市のいずれかの市の月別平均気温と月別の降水量をしめしています。①～③と各都市との組み合わせとして正しいものをア～カから1つ選び、記号で答えなさい。

表1 (上段：月別平均気温℃ / 下段：月別降水量 mm)

	1月	2月	3月	4月	5月	6月	7月	8月	9月	10月	11月	12月	全 年
①	-0.9	-1.9	4.6	9.6	14.2	17.8	22.6	22.8	20.0	14.2	8.3	1.2	11.0
	104.0	97.5	74.5	82.5	169.5	102.0	191	180.5	103	185.5	90.5	172.5	1553.0
②	-1.6	-2.5	3.3	9.9	15.7	20.0	25.7	24.6	20.1	14.6	7.8	1.0	11.6
	200.5	187	92	98	178.5	123.5	126	215	163	110.5	108	251.5	1853.5
③	1.4	1.4	7.5	12.5	17.0	20.3	25.5	24.9	20.8	16.5	10.7	4.3	13.6
	50	25.5	126.5	37	102.5	100.5	58.5	272.5	188.5	68	23.5	29	1082.0

(気象庁 HP 2018)

	ア	イ	ウ	エ	オ	カ
青森市	①	①	②	②	③	③
横手市	②	③	①	③	①	②
仙台市	③	②	③	①	②	①

ミノル：次は、農林水産業だけれど、米作りがさかんな地域で、水田単作地帯が多いね。果物の生産もさかんで、りんごや は日本全体の約8割をしめているんだよ。

サクラ：林業では、青森ヒバと秋田 は、日本の天然三大美林として有名だし、^②漁業では、沿岸漁業や養殖もさかんよね。

- (3) 文章中の には右の表2 (2018年) と写真1 がしめしている果物の名前があてはまります。その名前を答えなさい。なお、写真はその花です。

表2

	t	%
山形県	14,500	75.9
全国	19,100	100.0

(日本のすがた 2019)



写真1

- (4) 文章中の にあてはまる語句を答えなさい。ただし、カタカナで答えること。

(5) 下線部②について、次の表3のA～Cは、図1中の1～3のどれかの県の海面漁業、海面養殖、内水面漁業のそれぞれの漁獲量（2018年）をしめしています。A～Cと1～3との組合せとして正しいものを下のア～カから1つ選び、記号で答えなさい。※内水面漁業とは、川や湖での漁業のこと。

表3

	海面漁業 (t)	海面養殖 (t)	※内水面漁業 (t)
A	89,600	85,000	4,147
B	179,700	79,200	354
C	3,900	非常に少ない	163

(農林水産省 HP)

	ア	イ	ウ	エ	オ	カ
A	1	1	2	2	3	3
B	2	3	1	3	1	2
C	3	2	3	1	2	1

サクラ：次は工業だけど、東北地方といえば、③伝統的工芸品をつくる伝統工業のイメージが強いわ。

ミノル：現在、多くのコンピューター関連工場が進出しているけど、それらは、④新幹線、自動車道そして空港が整備されてからだね。

(6) 下線部③について、次の写真2の1～3とそれを伝統的工芸品としている市、地方が位置する県との組合せとして正しいものを、下のア～カから1つ選び、記号で答えなさい。なお、1は^{おおだて}大館曲げワッパ、2は^{なん}南部鉄器、3は^{つがるぬ}津軽塗りです。



写真2

	ア	イ	ウ	エ	オ	カ
青森県	1	1	2	2	3	3
秋田県	2	3	1	3	1	2
岩手県	3	2	3	1	2	1

(7) 下線部④について、この路線（図の——）として正しいもの（2019年12月現在）を下の図2のア～エから1つ選び、記号で答えなさい。

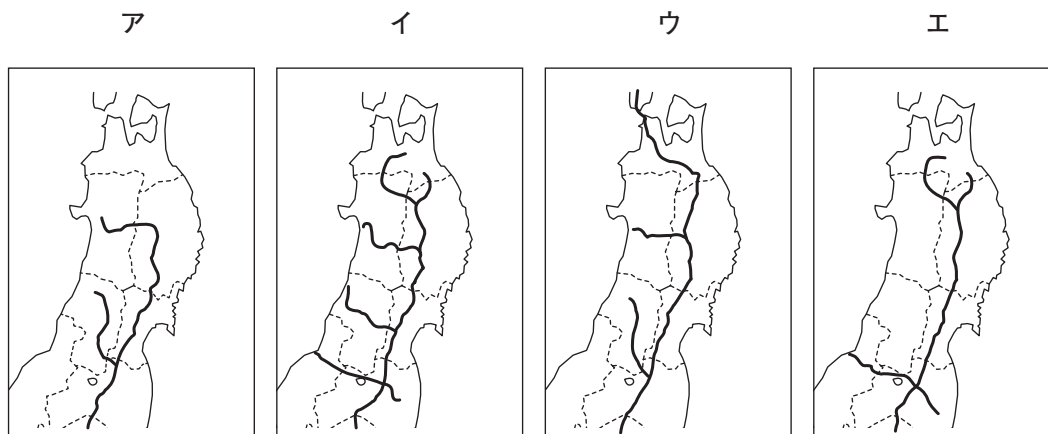


図2

図の点線は県境を表す

(8) 2015年9月の国連サミットで、193の参加国が2030年までに達成すべき目標（SDGs = 持続可能な開発目標）が採択されて以来、日本でも会社、団体、政府などがこの目標達成に向かって、さまざまな分野で積極的に取り組んでいます。特に、東北地方では、このSDGsへの取り組みが震災復興に大きく貢献すると考えられています。

そこで、みなさんには、ここまでのサクラさんとミノル君の会話を参考に、東北地方特有の自然、文化、産業、人々をイメージして、以下のSDGsの7つの目標であるア～キから1つを選び、その目標の中でそれらを2030年までにどのように発展させられるかを、解答の方法にしたがって説明してもらいます。

7つの目標	
ア	飢餓（食 ^き べ物がなくてうえること）をゼロに。
イ	すべての人に健康と福祉 ^{ふくし} を。
ウ	働きがいも経済成長も。
エ	産業と技術革新の基礎をつくろう。
オ	住み続けられるまちづくりを。
カ	海の豊かさを守ろう。
キ	陸の豊かさも守ろう。

(解答の方法)

次のページの解答例^{れい}を参考に、ア～キから1つを選び、会社もしくは団体を主語にして答えること。また、持続的に開発・発展させるものに下線を引くこと。

なお、会社または団体には、コンピューター会社、電力会社、建設会社、木材会社、スポーツジム、食品会社、漁業組合、森林組合、農業協同組合などがある。

アを選んだ例（食品会社が主語）

食品会社が、食の安全を確保しながら、東北地方で大量に生産されているおいしいお米とおつけ物を使った伝統的な食文化の維持，発展，さらには世界に広げることを目標とする。

カを選んだ例（漁業組合が主語）

漁業組合が、東北地方で有名な、カキ、ホタテ、コンブの養殖において、海をよごさない、永続的に養殖を続けることができる画期的な漁法を獲得することを目標とする。

2. 次のオリンピックについての文章を読み、あとの問いに答えなさい。

2020年夏、いよいよ①東京でオリンピック・パラリンピックがおこなわれます。東京で夏のオリンピック・パラリンピックがおこなわれるのは2回目で、1回目は（ 1 ）年におこなわれました。（ 1 ）年の大会は②敗戦からの復興としての意義があり、③この大会に向けて東京には様々なものがつくられました。実はそれより前の④1940年にも、オリンピックを東京でおこなおうという計画がありましたが、国際情勢の悪化により、中止になってしまいました。

2020年の東京オリンピック・パラリンピックは、世界からも非常に注目されています。図1のように、エンブレムは、形の異なる3種類の四角形を組み合わせ、国や文化・思想などの違いを示すとともに、違いはあってもそれらを超えてつながり合うデザインに、「多様性と調和」のメッセージを込めています。多様性とは、人種や⑤性別・⑥国籍などに関係なく活躍できることを意味しています。




図1

2016年におこなわれたリオデジャネイロ大会の閉会式で、当時の日本の総理大臣（ 2 ）が⑦アニメキャラクターの服装で登場したことも、世界中で話題になりました。多くの観光客が予想されるため、東京だけでなく、全国でオリンピック・⑧パラリンピックに向けての準備が進んでいます。

- (1) 下線部①について、現在の東京都の知事の名前を答えなさい。
- (2) 文章中の空らん（ 1 ）にあてはまる数字を答えなさい。
- (3) 下線部②について、2020年の東京大会でも、震災からの「復興」がテーマの一つとなっています。その震災の名称（漢字6文字）と、震災が起きた年を、解答らんにあてはまるように答えなさい。
- (4) 下線部③について、この大会に向けてつくられたものとして東海道新幹線がありますが、「東海道」とは江戸時代に整備された日本の道の一つです。下の図2と図3を参考に、東海道についての次の各問いに答えなさい。

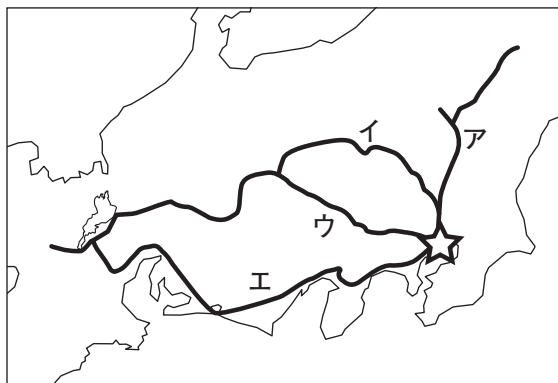


図2




図3

問1 東海道を示すものとして正しいものを、**図2**の**ア**～**エ**から1つ選び、記号で答えなさい。

問2 江戸時代には**図2**のように、江戸から全国への道が整備されました。**図3**はそれらすべての起点の様子を描いたものです。**図3**を参考に、江戸から全国へのすべての道の起点(**図2**中の**☆**)を答えなさい。

問3 **図3**は「東海道五十三次」の一枚です。この絵の作者を次の**ア**～**エ**から1人選び、記号で答えなさい。

- ア. 葛飾北斎
- イ. 歌川広重
- ウ. 伊能忠敬
- エ. 近松門左衛門

(5) 下線部④について、このころ、オリンピックが中止になるほどに国際情勢が悪化していました。1940年におこったできごととして正しいものを次の**ア**～**エ**から1つ選び、記号で答えなさい。

- ア. 日中戦争が悪化していく中で、日本・ドイツ・イタリアが軍事同盟を結んだ。
- イ. 朝鮮半島では、韓国と北朝鮮の2つの国が成立し対立した。
- ウ. アメリカの世界貿易センタービルに、ハイジャックされた飛行機2機が激突した。
- エ. のちに世界的経済不況を引き起こすことになる株価の大暴落が、アメリカで始まった。

(6) 下線部⑤について、日本の女性の歴史をみると、女性も政治や社会に関わってきたことがわかります。女性の歴史に関する次の各問いに答えなさい。

問1 日本の歴史では、女性が政治の舞台で活躍することもありました。

日本初の女性の天皇は誰ですか、答えなさい。

問2 問1の天皇の政権がおこなったこととして正しいものを、次の**ア**～**エ**から1つ選び、記号で答えなさい。

- ア. 蘇我氏を滅ぼし、大化の改新をおこなった。
- イ. 12の冠位を制定し、豪族たちに与えた。
- ウ. 和同開珎をつくり、天皇の力を主張した。
- エ. 中国から政治制度を学び、大宝律令を制定した。

問3 武士の社会でも、重要な立場にあった女性がいました。鎌倉時代におこった、後鳥羽上皇が率いる朝廷軍と北条氏率いる幕府軍との戦いを承久の乱と呼びます。このとき幕府側の御家人たちを束ね、勝利に導いた女性は誰ですか。正しいものを次の**ア**～**エ**から1人選び、記号で答えなさい。

- ア. 日野富子
- イ. 北条政子
- ウ. 紫式部
- エ. 清少納言

問4 日本の歴史では、明治時代以降、女子教育を広める活動をおこなった女性が多く登場します。2019年4月に新5000円札の肖像になることが発表された、女子英学塾を創設した人物の名前を答えなさい。

(7) 下線部⑥について、現在日本には200万人以上の外国人が住んでいるといわれています。杉並区では図4の国旗をもつ国の出身者が10年間で10倍になり、現在2000人以上が住んでいます。この国はどこですか。次のア～エから1つ選び、記号で答えなさい。




図4

ア. インド イ. 中国 ウ. ネパール エ. カンボジア

(8) 文章中の空らん（ 2 ）にあてはまる人物の名前を答えなさい。

(9) 下線部⑦について、アニメやファッションなど日本文化の魅力を世界に発信する目的でつくられた戦略政策を何と呼びますか。カタカナで答えなさい。

(10) 下線部⑧について、2019年8月25日、2020年パラリンピックのメダルが発表されました。側面をよく見ると、金メダルには1つ、銀メダルには2つ、銅メダルには3つの円形のくぼみをつくるという工夫がみられます（図5）。この工夫は何のためだと考えられますか。パラリンピックの意味を考えて説明しなさい。




図5