

2020 年度

2月1日午前入試（第1回）

社 会

- 注意
- 1 開始の“チャイム”が鳴るまで中を見てはいけません。
 - 2 答えはすべて解答用紙の解答らんじに、はっきり書きなさい。
 - 3 特別な指示のない限り、漢字で書くべきところは漢字で答えなさい。
 - 4 終わりの“チャイム”が鳴ったら、とちゅうでもやめなさい。
 - 5 問題のページは、1 - 1 から 1 - 7 まであります。

1. 次の日本の国土についての文章を読んで、あとの問いに答えなさい。

日本の国土のおよそ（ X ）%は①山地です。山地は国土のほぼ中央を背骨のようにつらなっていて、国土を（ 1 ）側と日本海側に分けています。わが国の山地は、^{いっばん けいしゃ}一般に傾斜が急でけわしくなっており、山地が海岸近くまでせまっているところが多いです。日本の山地のほとんどは、（ 2 ）活動によってできたものです。日本列島には（ 2 ）島が多く分布しており、阿蘇山や②桜島などは今でも活発に活動しています。


川に関しては、多くは、国土の中央につらなる山地から流れ出て、海にそそいでいるため、短くて流れが急で、また、③季節による水量の変化が大きいのが特徴です。

平野は、川沿いか河口付近にできています。④平地には平野のほか、盆地、台地があります。さらに、最大の面積を持つ⑤琵琶湖をはじめ、たくさんの湖もあります。

(1) 文章中の空らん（ X ）にあてはまる数字として最も近いものを下のア～エから1つ選び、記号で答えなさい。

- ア. 40 イ. 50 ウ. 60 エ. 70

(2) 文章中の空らん（ 1 ）、（ 2 ）にあてはまる語句をそれぞれ答えなさい。

(3) 文章中の下線部①について、下の図1のア～エは、図2中のA～Dのどれかで、中のは、それぞれの範囲の代表的な山脈の位置をしめしています。Dにあてはまるものを、ア～エから1つ選び、記号で答えなさい。

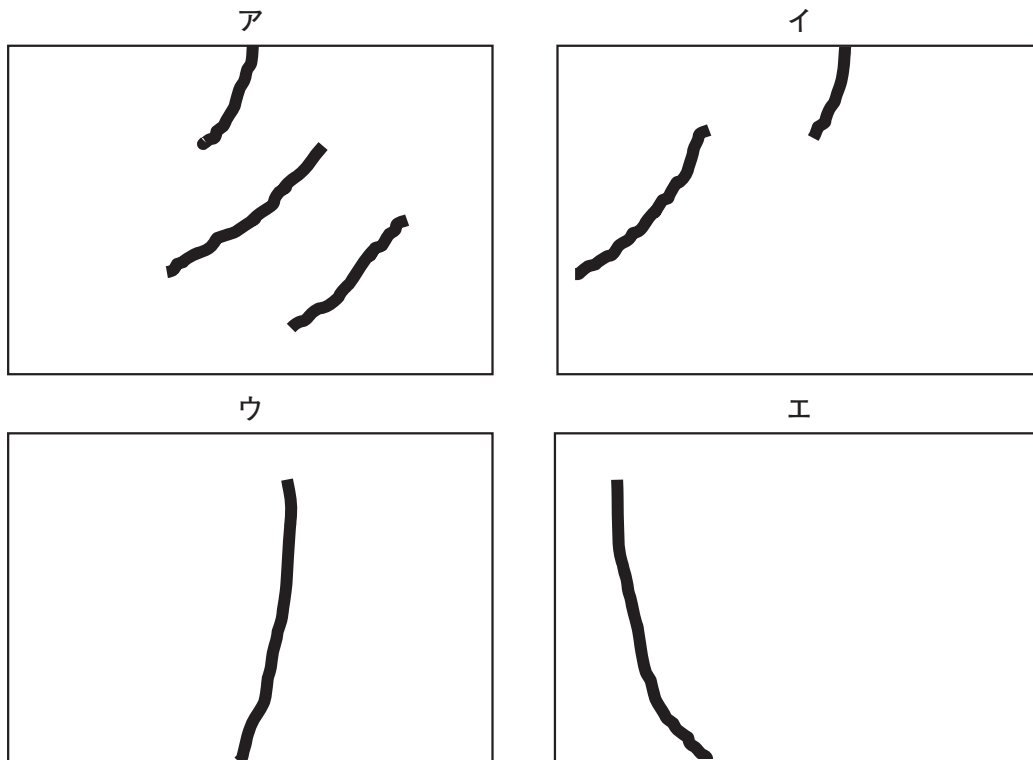


図1

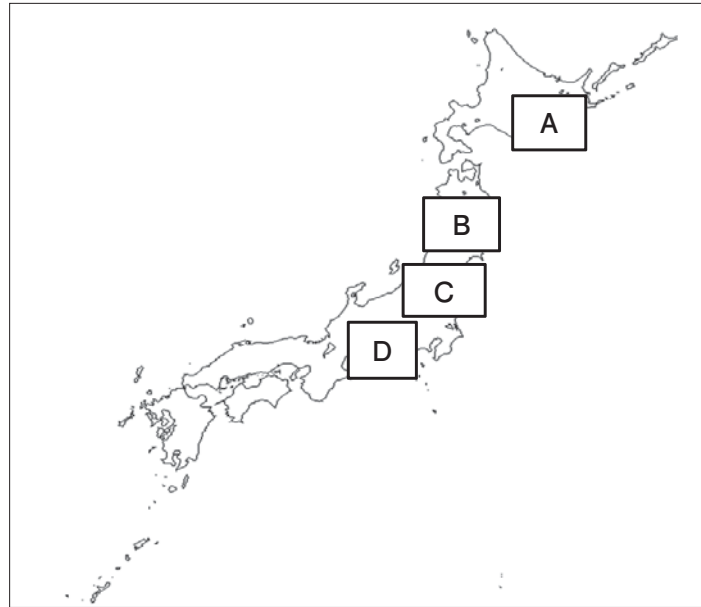


図2

(4) 下線部②について、この山の位置を下の図3中のア～オから1つ選び、記号で答えなさい。

(5) 下線部③について、下の図4中のア、イは、図3中のY川、Z川のそれぞれの月別流量の変化（数値は、1989年から2002年までの平均値。それぞれの川の★のところで観測）をしめしています。それらについて、次の問いに答えなさい。

問1 Y川の名前を答えなさい。

問2 Y川にあてはまるものをア、イから選び、記号で答えなさい。また、それを選んだ理由をアとイの月別流量の特長を比較して、簡単に説明しなさい。

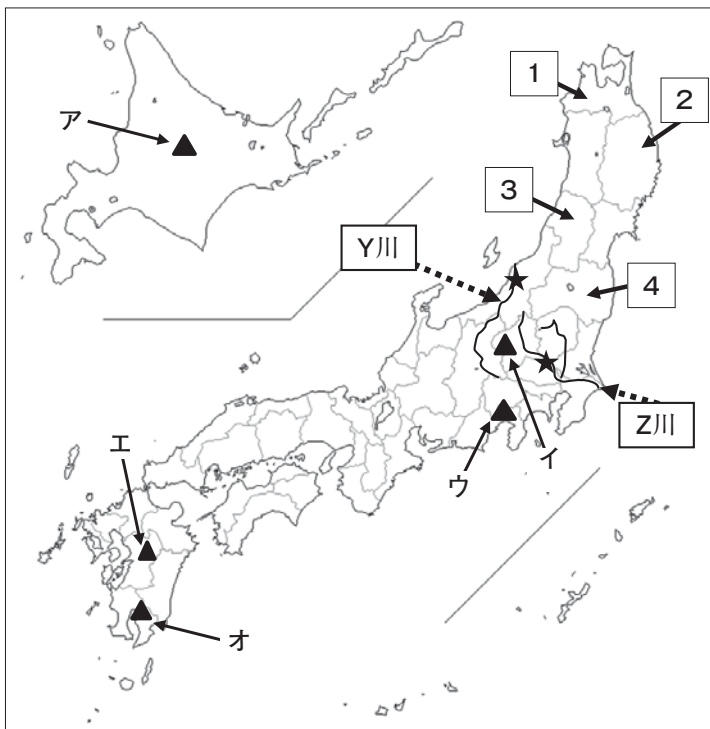


図3

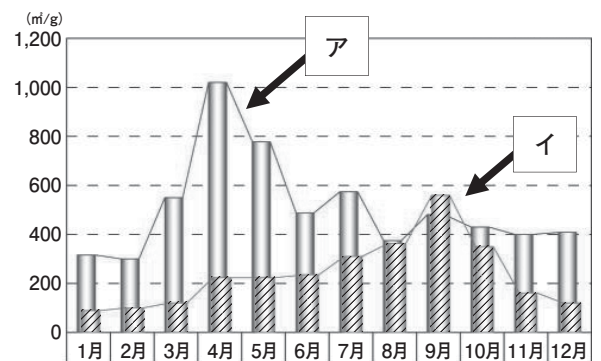


図4

(国土交通省 北陸地方整備局 HP)

(6) 下線部④について、平野や盆地では、米以外に地域の特色にあった農作物が栽培され、とくに東北地方では、果物栽培がさかんです。下の表は、もも、日本なし、ぶどう、りんごの都道府県別生産量（上位5位まで。数値はすべて2017年）をしめし、表中のA～Dは、図3中の1～4の県どれかです。表中のBの県名を答えなさい。

表

もも

	t	%
山梨県	39,200	31.4
A	28,600	22.9
長野県	14,500	11.6
和歌山県	10,200	8.2
B	8,680	6.9
全 国	124,900	100.0

日本なし

	t	%
千葉県	32,000	13.0
茨城県	23,400	9.5
栃木県	19,000	7.7
A	18,900	7.7
鳥取県	18,400	7.5
全 国	245,000	100.0

ぶどう

	t	%
山梨県	43,200	24.5
長野県	25,900	14.7
B	16,700	9.5
岡山県	16,700	9.5
福岡県	8,260	4.7
全 国	176,100	100.0

りんご

	t	%
C	415,900	56.6
長野県	149,100	20.3
B	47,100	6.4
D	39,600	5.4
A	27,000	3.7
全 国	735,200	100.0

(日本のすがた 2019)

(7) 下線部⑤について、滋賀県は、琵琶湖を健全な姿で次世代に引き継ぐため、琵琶湖の環境にやさしい石けんを使う「石けん運動（はだアレルギーを引きおこしたり、魚などの生態系に悪影響をおよぼしたりする恐れがある合成洗剤の使用をやめて、石けんを使うこと）」をおこなうなど、県全体で環境保全に熱心に取り組んできた地域で、2017年1月、全国に先駆けSDGsを県政に取り込むことを宣言しました。みなさんがこれまで学習してきたなかで、石けん運動以外で、SDGsの考えに沿って湖の環境をまもる方法を1つ答えなさい。

SDGs（持続可能な開発目標）とは、2015年9月の国連サミットで採択された「持続可能な開発のための2030アジェンダ」にて記載された2016年から2030年までの国際目標です。持続可能な世界を実現するための17のゴールと169のターゲットから構成され、地球上の誰一人として取り残さないことを誓っています。琵琶湖の場合、複数のゴール、多数のターゲットとかがわっていますが、「水」に着目すると、ゴール6（すべての人々の水と衛生の利用可能性と持続可能な管理を確保する）、ゴール14（海洋と海洋資源を持続可能な開発に向けて保全し、持続可能な形で利用する）があげられます。

2. 次の文章を読んで、あとの問いに答えなさい。

①縄文時代の遺跡から発掘される②土偶は、女性をかたどったものが多く、当時の人々が女性のもつ新しい命を産み出す力に、植物や生き物を育てる自然の力を見出し、豊かな恵みを願ってつくられたとされています。つまり自然や自然現象が信仰の対象となっていたということです。

仏教は、6世紀になると③朝鮮半島から伝わり、④聖徳太子によって⑤日本にも広められていきました。8世紀になると、聖武天皇は仏教をよりどころとした政治をすすめました。

⑥キリスト教は、⑦1549年にスペインの宣教師によって布教が始まりました。⑧織田信長はキリスト教を保護し布教を認めたので、安土にはキリスト教の教会や学校が建てられました。しかし⑨江戸時代になるとキリスト教を信じることは禁止されます。再びキリスト教の布教が許されるのは、⑩日本が開国し、明治時代に入ってから後のことでした。

そして現代の日本では、⑪第二次世界大戦の反省をいかして⑫日本国憲法が1946年に公布され、その中で⑬信教の自由が保障されています。

(1) 下線部①について、下の問いに答えなさい。

問1 この時代のものとしてあてはまるものを、下の写真ア～エから1つ選び、記号で答えなさい。

ア



イ



ウ



エ



問2 青森県にある、この時代最大の遺跡の名前を答えなさい。

(2) 下線部②としてあてはまるものを、下の写真ア～エから1つ選び、記号で答えなさい。

ア



イ



ウ



エ



(3) 下線部③について、この地域と日本の関係を説明する文として正しいものを次のア～エから1つ選び、記号で答えなさい。

ア. 鎖国のもとで対馬藩を窓口として朝鮮との交流がおこなわれ、朝鮮通信使が来日した。

イ. 中国との戦争に勝利した日本は、次の年に韓国を併合し、植民地とした。

ウ. 朝鮮半島で内乱がおこると、日本とロシアはこれを鎮^{ちんあつ}圧することを目的として軍隊を送り、この2つの国の間で戦争が始まった。

エ. 徳川家康は、江戸に幕府を開いた後に海外進出を考え朝鮮半島に出兵した。

(4) 下線部④について、この人物に関する各問いに答えなさい。

問1 この人物がおこなったこととして正しいできごとを、次のア～エから1つ選び、記号で答えなさい。

ア. 全国の田畑の面積や収穫高、耕作している農民の名前などを調べ、これをもとに年貢を取り立てた。

イ. 仏教の力で国を守ろうと考え、各地に国分寺や国分尼寺を建てた。

ウ. 役人の心得^{こころえ}を定めた法律を制定した。

エ. 新しく開墾^{かいこん}した土地は、永久に私有できるという法律を制定した。

問2 この人物は、中国の文化や政治の仕組みを取り入れようとして使節を派遣しています。当時の中国の王朝として正しいものを、次のア～エから1つ選び、記号で答えなさい。

ア. 隋 イ. 唐 ウ. 宋 エ. 明

(5) 下線部⑤について、下の写真は8世紀半ばに日本を訪れ、仏教の発展に力を尽くした人物です。この人物が開いた寺として正しいものを次のア～エから1つ選び、記号で答えなさい。



ア. 東大寺 イ. 慈照寺（銀閣） ウ. 法隆寺 エ. 唐招提寺

(6) 下線部⑥について、キリスト教の信者の数は世界最大といわれています。同じように世界中で多くの人々に信じられている宗教として、イスラム教があげられます。イスラム教についての文章としてまちがっているものを、次のア～エから1つ選び、記号で答えなさい。

- ア. この世のただ一つの神であるアッラーを信じる。
- イ. 神聖な土地メッカに向かって1日5回礼拝をする。
- ウ. ブタ肉を食べることや酒を飲むことが禁止されている。
- エ. 南蛮貿易の船に乗ってきた宣教師によって、日本に広められた。

(7) 下線部⑦について、この人物の名前を答えなさい。

(8) 下線部⑧について、織田信長は、キリスト教と同じようにヨーロッパより日本に伝えられた武器を用い1575年に武田軍に勝利しました。この戦いを次のア～エから1つ選び、記号で答えなさい。

- ア. 桶狭間の戦い
- イ. 壇ノ浦の戦い
- ウ. 長篠の戦い
- エ. 関ヶ原の戦い

(9) 下線部⑨について、重い年貢の取り立てやキリスト教の厳しい取り締まりに対して反抗した人物を、次のア～エから1人選び、記号で答えなさい。

- ア. 大塩平八郎
- イ. 天草四郎（益田時貞）
- ウ. 西郷隆盛
- エ. 石田三成

(10) 下線部⑩について、1858年に日本が欧米諸国と結んだ条約は不平等なものでした。日本国内で罪を犯した外国人を日本の法律で裁くことができなくなった日本が外国に認めた権利を何とといいますか、答えなさい。

(11) 下線部⑪について、下の問いに答えなさい。

問1 この戦争が始まるよりも前のできごとを次のア～エから1つ選び、記号で答えなさい。

- ア. 中国との戦争に勝って得た賠償金の一部を使って、八幡製鉄所がつくられた。
- イ. 杉原千畝すぎはら ちうねはリトアニアにて、日本政府の方針に反してユダヤ人たちにビザを発行し続けた。
- ウ. 日本軍がハワイのアメリカ軍基地を攻撃した。
- エ. 国際連合が設立された。

問2 下の写真の、世界遺産となっている建造物はどこにありますか、都市名を答えなさい。



(12) 下線部⑫について、各問いに答えなさい。

問1 公布の月日と施行の月日の組み合わせとして正しいものを、下の表の^ア～^カから1つ選び、記号で答えなさい。

	ア	イ	ウ	エ	オ	カ
公布日	2月11日	11月3日	2月11日	5月3日	5月3日	11月3日
施行日	11月3日	2月11日	5月3日	2月3日	11月3日	5月3日

問2 この憲法の三大原則は、国民主権、基本的人権の尊重ともう1つは何ですか、答えなさい。

(13) 下線部⑬について、自由権によって保障されている事柄を、次の^ア～^エから1つ選び、記号で答えなさい。

- ア. 18歳になると、選挙に参加することができる。
- イ. 自分の書き記した小説を出版することができる。
- ウ. 性別を理由に就職・昇進で差別されない。
- エ. 高齢の祖母は、介護サービスを受けられる。