

2019 年度

2月1日午前入試（第1回）

社 会

- 注意
- 1 開始の“チャイム”が鳴るまで中を見てはいけません。
 - 2 答えはすべて解答用紙の解答らんじんに、はっきり書きなさい。
 - 3 特別な指示のない限り、漢字で書くべきところは漢字で答えなさい。
 - 4 終わりの“チャイム”が鳴ったら、とちゅうでもやめなさい。
 - 5 問題のページは、1 - 1 から 1 - 8 まであります。

1. 人口について、あとの問いに答えなさい。

(1) 人口の分布を表すものとして人口密度があります。人口密度の求め方として正しいものを次のア～ウから1つ選び、記号で答えなさい。

ア. 人口×面積 イ. 人口÷面積 ウ. 面積÷人口

(2) 現在の日本の人口密度の数値にもっとも近いものを次のア～カから1つ選び、記号で答えなさい。なお、単位は省略しています。

ア. 40 イ. 140 ウ. 240 エ. 340 オ. 440 カ. 540

(3) 2018年現在の人口の多い国を並べると次の表1のようになります。表1中の空らん< ① >・< ② >にあてはまる国の組み合わせとして正しいものを次のア～カから1つ選び、記号で答えなさい。

表1

順位	国名	人口(千人)
第1位	中華人民共和国	1,415,046
第2位	< ① >	1,354,052
第3位	アメリカ合衆国	326,767
第4位	< ② >	266,795
第5位	ブラジル	210,868

	①	②
ア	インドネシア	インド
イ	インドネシア	ロシア
ウ	ロシア	インド
エ	ロシア	インドネシア
オ	インド	インドネシア
カ	インド	ロシア

(世界国勢図会2018/19)

(4) 6大陸の中で人口1億人を超す国がない大陸が2つあります。1つは南極大陸ですが、もう1つの大陸名を答えなさい。

(5) 日本は世界でも人口が1億人を超す数少ない国です。その日本よりも人口が少ない国を次のア～エから1つ選び、記号で答えなさい。

ア. パキスタン イ. イギリス ウ. バングラデシュ エ. ナイジェリア

(6) 日本の人口が1億人を超えたのはいつ頃ですか、次のア～オから1つ選び、記号で答えなさい。

- ア. 江戸時代末期頃 イ. 第1次世界大戦終戦頃 ウ. 第2次世界大戦終戦頃
 エ. 高度経済成長の頃 オ. 平成初期の頃

(7) 日本では東京都，愛知県，大阪府に人口が集中しています。下の図1は東京都，愛知県，大阪府に周辺の府県からどのくらいの人口が流入してきたかをしめしています。図1の円グラフ中のア，イの県名をそれぞれ答えなさい。

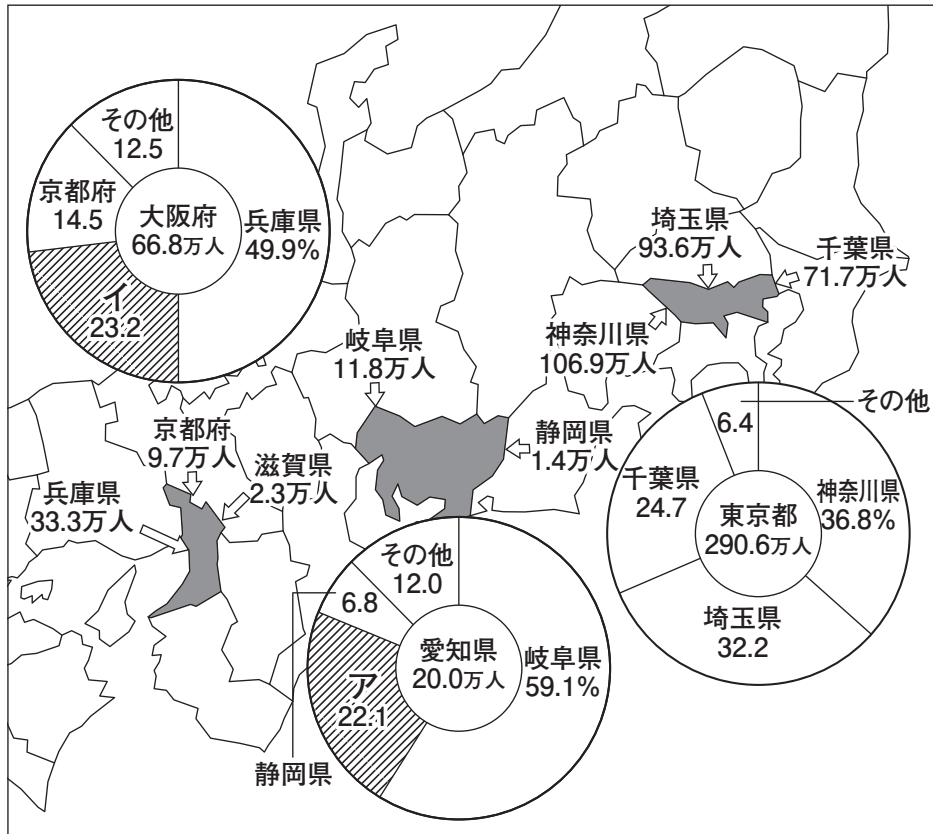


図1 (日本国勢図会2018/19)

(8) 日本の過疎地域でおきていることとして考えにくいものを次のア～エから1つ選び、記号で答えなさい。

- ア. 高齢者が増えていることにより，病院の数が増加し続けている。
 イ. 子どもが減っていることにより，廃校になってしまう学校が増えている。
 ウ. 鉄道やバス路線が廃止され，交通が不便になってしまっているところが多い。
 エ. 生活道路や農業用水の管理，祭や消防団などの地域社会の活動が困難になっているところが多い。

<問題は次ページに続きます。>

2. 次の祖父と孫の会話文を読んで、あとの問いに答えなさい。

孫：お札に（ 1 ）券と書かれているけど、どういう意味なの。

祖父：お札の正式名称で、（ 1 ）が発行しているという意味だよ。

(1) 文章中の空らん（ 1 ）にあてはまる言葉を漢字4字で答えなさい。

祖父：お札に描かれている人物が誰だかわかるかい。

孫：わかるよ。千円札が①野口英世、五千円札が（ 2 ）、一万円札が②福沢諭吉でしょ。みんな歴史の教科書に出てくるよ。

(2) 文章中の空らん（ 2 ）にあてはまる人物を次のア～エから1人選び、記号で答えなさい。

ア. 津田梅子 イ. 与謝野晶子 ウ. 樋口一葉 エ. 平塚らいてう

(3) 下線部①について、この人物がおこなったこととして正しいものを次のア～エから1つ選び、記号で答えなさい。

ア. 黄熱病おうねつびょうの研究をおこなっていたが、自身もこの病気にかかり亡くなった。

イ. 第2次世界大戦中にリトアニアで多くのユダヤ人の命を救った。

ウ. 破傷風はしょうふうという伝染病の治療法を開発した。

エ. 全国水平社をつくり、自分たちの力で差別をなくそうと運動を続けた。

(4) 下線部②について、この人物が、人間は平等であることや学問をすることで国民が自立することの大切さを説いた本の名前を答えなさい。

祖父：昔のお札には違う人物が描かれていたんだよ。幕末や明治維新で活躍した人物も描かれていたこともあったんだよ。例えばこの古い千円札は誰だかわかるかな。

孫：③伊藤博文だね。こっちの百円札は自由民権運動で活躍した④土佐藩出身の（ 3 ）だね。彼は自由党を結成したんだよね。

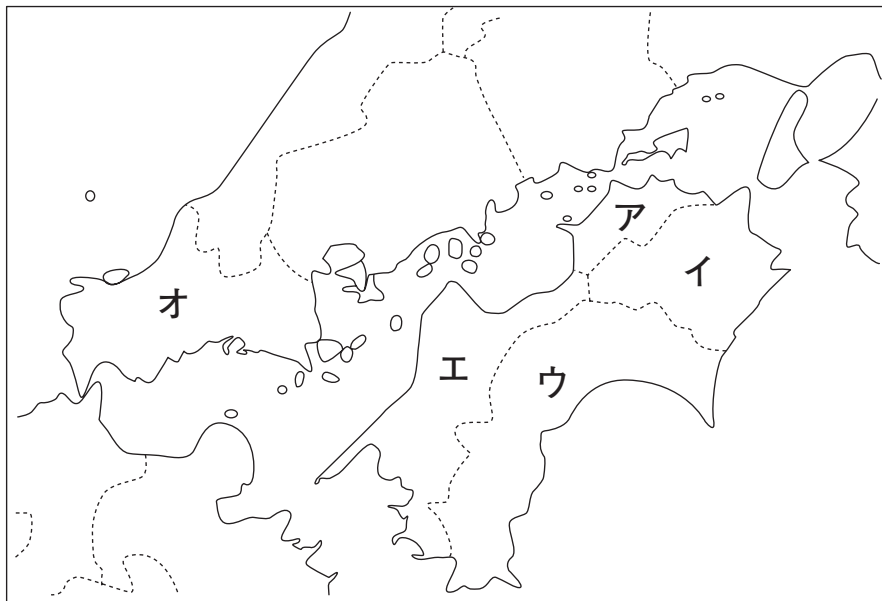
祖父：この五百円札には明治維新で力を発揮した⑤岩倉具視が描かれているね。

(5) 下線部③について、この人物の説明としてまちがっているものを次のア～エから1つ選び、記号で答えなさい。

- ア. 初代内閣総理大臣となった。
- イ. ドイツの憲法を参考に日本国憲法の案をまとめた。
- ウ. ハルビンで日本の朝鮮支配に反対する活動家に暗殺された。
- エ. 長州藩の出身であった。

(6) 下線部④について、次の問いに答えなさい。


問1. この藩は現在の何県に位置していましたか、その位置を下の地図ア～オから1つ選び、記号で答えなさい。



問2. この藩出身で、幕末に薩長同盟の仲介をした人物を答えなさい。

(7) 文章中の空らん (3) にあてはまる人物の写真を次のア～エから 1 人選び, 記号で答えなさい。

ア



イ



ウ



エ



(8) 下線部⑤について, 岩倉使節団に参加し, 帰国後, 事実上政治の中心となった薩摩藩出身の人物を次のア～エから 1 人選び, 記号で答えなさい。

ア. 西郷隆盛

イ. 木戸孝允

ウ. 大久保利通

エ. 田中正造

孫 : もっと古い時代の人物が描かれたこともあるのかな。

祖父 : 例えば, 中大兄皇子に協力して大化の改新をおこなった (4) や, 平安時代に遣唐使の中止を天皇にうったえた (5) なども描かれていたんだ。ところで, もっとも多くの種類のお札に描かれた人物は誰だと思う。ヒントは十七条の憲法をさだめた人物だよ。

孫 : (6) だね。

(9) 文章中の空らん (4) ~ (6) にあてはまる人物を答えなさい。

祖父：2000年に⑥沖繩でサミットが開かれるのを記念して二千円札が発行されたんだ。表には首里城の守礼門^{しゅれいもん}、裏面は⑦紫式部が描かれているよ。女性が描かれたお札は現在まで3種類しかないんだよ。

孫：そういえば、このあいだニュースで⑧カンボジアの紙幣に日本の国旗が描かれているって言ってたよ。

祖父：⑨1992年に日本の自衛隊がカンボジアに派遣されて、現地の治安維持や道路、橋の建設などをおこなったことにちなんでいるそうだよ。

孫：平和的な協力によって外国のお札に日本の国旗が描かれるなんて、なんだかうれしいね。


(10) 下線部⑥について、まちがっているものを次のア～エから1つ選び、記号で答えなさい。

- ア. 明治政府が廃止するまで、琉球王国とよばれていた。
- イ. 1972年にアメリカから返還されて、日本に復帰した。
- ウ. 現在の那覇市にある首里城は世界遺産に登録されている。
- エ. 日本にあるアメリカ軍基地の全てが沖縄本島に集中している。

(11) 下線部⑦について、この人物が活躍した時代にもっとも近いできごとを次のア～エから1つ選び、記号で答えなさい。

- ア. 藤原道長が、娘たちを天皇と結婚させ、権力を強めた。
- イ. 中国から「漢委奴国王」の金印を授かった。
- ウ. 能や狂言が、権力者から庶民にいたるまで人気を得た。
- エ. 和同開珎が、都で使用されるようになった。

(12) 下線部⑧について、この国の国旗を次のア～エから1つ選び、記号で答えなさい。



(13) 下線部⑨について、自衛隊の海外派遣は何という法律にもとづいておこなわれましたか、解答らんにあわせて答えなさい。

祖父：現在使われているお札は千円，二千元，五千元，一万元の順に大きくなり，さらに指でさわってわかるように，お札の端にはそれぞれ別のしるしがつけられているよ。

孫：本当だ。でもなぜ，大きさをかえたり，しるしをつけるのかな。

祖父：どうしてだと思う。

孫：（ ）人たちのためかな。

祖父：そうだね，お札も^⑩すべての人のことを考えてつくられているということだよ。

(14) 文中の空らん（ ）について，孫がどのように返答したかを，会話がつながるように解答らんにあわせて答えなさい。

(15) 下線部^⑩について，このようなデザインを何と言いますか，答えなさい。