

1 . 日本の川 , 海 , 湖などについて , あとの問いに答えなさい。

日本の川は外国の川と比べると , 短くて流れが急な川が多いのが特色です。この特色を利用して行っていることは何ですか , 漢字 4 字で答えなさい。

川の流域の低地では大雨のたびに洪水に悩まされてきました。図 1 の X では特に下の図 2 のような工夫を江戸時代からしてきました。このような堤防あるいは集落を何といいますか , 答えなさい。



図 1




図 2

図1のXに流れる川の組み合わせとして正しいものを次のア～キから1つ選び、記号で答えなさい。

表1

ア	イ	ウ	エ	オ	カ	キ
富士川	揖斐川	長良川	天竜川	木曽川	富士川	木曽川
揖斐川	長良川	天竜川	木曽川	富士川	揖斐川	揖斐川
長良川	天竜川	木曽川	富士川	揖斐川	天竜川	長良川

下の図3のように年間を通して降水量が少ないところではため池を作り、農業用水などに利用してきました。このことにあてはまる場所を図1の①～④から1つ選び、番号で答えなさい。

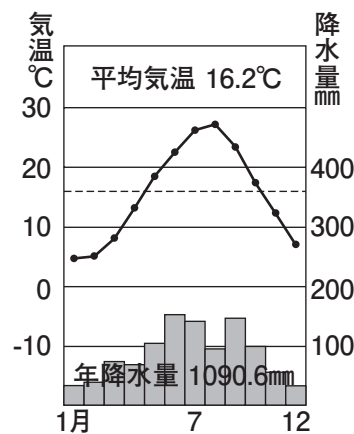


図3

浜名湖を地図帳で見ると下の図4のようにあらわされています。よく見ると、浜名湖のところに「 $\frac{0}{-13}$ 」と表記されています。「-13」は何をあらわしていますか、次のア～エから1つ選び、記号で答えなさい。



図4

- ア．冬の最低気温 イ．全国で13番目に大きい湖 ウ．標高 エ．湖の深さ

浜名湖の近くには静岡県でもっとも人口が多い浜松市があります。次の図5のア～ウから浜松市を選び、記号で答えなさい。

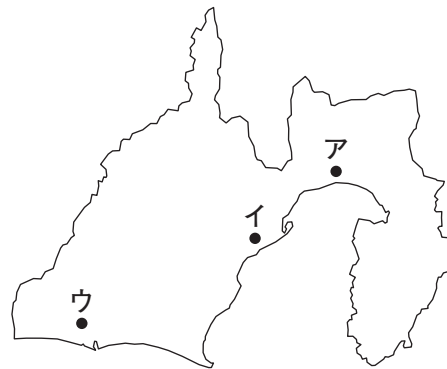


図5

国土が狭い日本では少しでも陸地を広げるために干拓や埋め立てを進めてきました。下の図6で干拓をあらわしているものをア・イから1つ選び、記号で答えなさい。

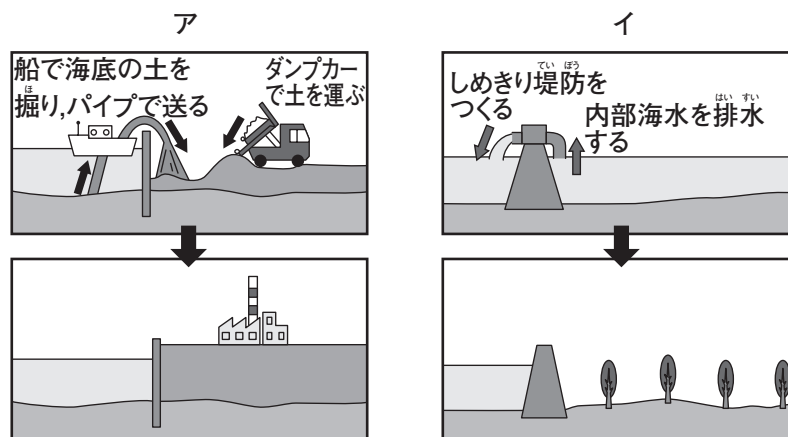


図6

昨年5月に湘南の海で見られた、プランクトンの異常発生が原因で海の色が変色してしまった現象を何といいますか、答えなさい。

広島市の地形は水に関係しています。その説明として正しいものを次のア～エから1つ選び、記号で答えなさい。

- ア．川にけずられた谷が沈んで、海水が入り込んでできた地形。
- イ．石灰岩の台地が、雨水によって溶かされてできた地形。
- ウ．川の流れがゆるやかになる河口近くにできた平らな地形。
- エ．川が山地からふもとへ出るところにできた、少し傾斜した地形。

2 . 次の孫と祖父の会話文を読んであとの問いに答えなさい。

孫 : おじいさん, 武士のことを別の言い方で (1) っていうのはなぜなの。

祖父 : それはもともと武士が朝廷や貴族に仕える身分^{つか}だったからなんだ。昔の言葉で仕えることを「仕ろう」と言ったからなんだよ。

孫 : 武士は貴族より身分が低かったということなんだね。

祖父 : そうなんだよ。 8世紀に土地の私有が許されるようになり, しだいに律令制がくずれていったんだ。しばらくすると, 新しく切り開いた土地を守るために武装する人々があらわれたんだ。そして, その人々の一部が武士になったんだよ。その中から次第に朝廷や都の貴族に仕え, 出世する武士も出てくるようになったんだ。

文章中の空らん (1) にあてはまる言葉をひらがな4字で答えなさい。

下線部 について, 8世紀のできごととして正しいものを次のア~エから1つ選び, 記号で答えなさい。

ア . 菅原道真の提案により遣唐使が廃止された。

イ . 都が平安京にうつされた。

ウ . 豪族たちによって日本各地に古墳がつくられた。

エ . 中大兄皇子らによって大化の改新が行われた。

孫 : 武士が幕府を開いて日本の政治を行うようになったのはいつからなの。

祖父 : 幕府を開いたのは源頼朝が最初だけれども, 平清盛も武士の歴史にとって重要な役割を果たしたんだよ。

孫 : その平氏を源氏は 壇ノ浦で滅ぼすんだよね。

下線部 について, この人物が行ったこととして正しいものを次のア~エから1つ選び, 記号で答えなさい。

ア . 武士として初めて征夷大將軍になった。

イ . 現在の横浜港を整備して中国との貿易を盛んにした。

ウ . 自分の娘を天皇のきさきにし, 孫を次の天皇に即位させて権力を強めた。

エ . 現在の広島県に出雲大社を建てた。

下線部 の場所を地図中のア～エから1つ選び、記号で答えなさい。



孫 : そのあとは、室町時代から江戸時代まで武士が政治を行っていたんだよね。

祖父 : ただ、室町幕府の力が弱まると、各地の有力な武将たちが争う 戦国時代になり、室町幕府は滅ぼされてしまうんだよ。江戸幕府が成立するまでの間、幕府はなかったということになるね。

孫 : (2) は全国を統一したけれど、征夷大將軍になって幕府を開くことはしなかったんだね。

下線部 について、次のア～エのうち戦国時代のできごとを3つ選び、年代の古い順に並べかえなさい。

- ア . 本能寺の変がおこった。 イ . 種子島に鉄砲が伝わった。
ウ . 元軍が九州に攻めて来た。 エ . 長篠の戦いで武田氏が敗れた。

文章中の空らん (2) にあてはまる人物を答えなさい。

祖父：江戸時代は約270年続いたんだよ。江戸幕府は 武家諸法度などを定めて全国の大名を支配し，平和な時代を築いたんだ。

孫：この幕府最後の将軍が徳川慶喜だよ。彼は 政治をする権利を朝廷へ返したんだよ。

祖父：そう。これによって武士が政治を行う時代は終わり，天皇中心の新たな政府がつくられたんだよ。

下線部 について，武家諸法度には幕府の許可なく「大名は勝手に結婚してはならない」とあります。その理由は何ですか，下の資料を参考にして説明しなさい。

武家諸法度

- －，学問や武芸を身につけ，弓や馬の訓練にはげむこと。
- －，大名は，毎年決められた月に参勤すること。
- －，新しい城を築いてはならない。
- －，大名は勝手に結婚してはならない。
- －，大きな船をつくってはならない。

下線部 について，このできごとを何とよびますか，答えなさい。

3 . 次の文章 A ~ D を読み、あとの問いに答えなさい。

- A 1889年に制定された大日本国帝国憲法は、皇帝の権限の強い の憲法を手本としています。また、この憲法の制定にさきがけて、1885年に内閣制度がつくられ、憲法の制定にも関わった (1) は初代内閣総理大臣になりました。
- B 1919年に第1次世界大戦は終わり、この講和会議は で開かれ、ベルサイユ宮殿において条約が結ばれました。日本は、1902年に と同盟を結んでいたため、この戦争では連合国側について戦いました。
- C 第2次世界大戦は1939年、 がポーランドに攻めこむことで始まりました。さらに1941年に日本が真珠湾を攻撃したことをきっかけに、太平洋を舞台にした戦争も始まりました。このように、第2次世界大戦は世界中へと戦場を拡大していきました。多くの人々が被害を受けた戦争だったので、終戦後、国際平和を守ることを目的とした (2) が設立され、本部はニューヨークに置かれることになりました。
- D 1946年に 公布された日本国憲法は、主権が国民にあることを宣言し、国民一人ひとりが生まれながらにもつ権利を永久の権利として保障し、国民の 義務を定めています。また、国の政治は、正当に 選挙された国民の代表者により行われ、(3) を国権の最高機関にして唯一の (4) 機関としています。つまり、憲法がしめす理想と目的は、国民の手によって達成されるよう定められているのです。

文章中の ~ にあてはまる国の名前を答えなさい。

文章中の ~ の国を，下の地図中のア～カから1つずつ選び，記号で答えなさい。



文章中の空らん (1)・(2) にあてはまる言葉を答えなさい。

文章中の空らん (3)・(4) にあてはまる言葉の組み合わせとして正しいものを，次のア～カから1つ選び，記号で答えなさい。

	ア	イ	ウ	エ	オ	カ
(3)	国会	国会	国会	内閣	内閣	内閣
(4)	立法	行政	司法	立法	行政	司法

下線部 は、国王の宮殿として建築され、その後も社交の場として利用されています。日本でも、1883年に外国人を招いて舞踏会を開くなどの社交場となった建物がつくられました。その建物の写真を、下のア～エから1つ選び、記号で答えなさい。

ア



イ



ウ



エ



下線部 について、公布日を次のア～エから1つ選び、記号で答えなさい。

ア．2月11日 イ．4月29日 ウ．5月5日 エ．11月3日

下線部 について、次の文章中の空らん（ ）に共通してあてはまる言葉を、漢字2字で答えなさい。

日本国憲法第27条には、「すべて国民は、（ ）の権利を有し、義務を負う」とし、賃金や就労時間などについては「（ ）条件に関する基準は法律で定める」としています。また、11月23日は「（ ）をたつとび、生産を祝い、国民がたがいに感謝しあう」国民の祝日となっています。

下線部 について、次の問いに答えなさい。

問1 公正な選挙が行われるよう、都道府県・市町村におかれる機関を解答らんにあわせて答えなさい。

問2 都道府県・市町村議会議員に立候補できる年齢を答えなさい。