

2017 年度

2月3日入試

社 会

- 注意
- 1 開始の“チャイム”が鳴るまで中を見てはいけません。
 - 2 答えはすべて解答用紙の解答らんじんに、はっきり書きなさい。
 - 3 特別な指示のない限り、漢字で書くべきところは漢字で答えなさい。
 - 4 終わりの“チャイム”が鳴ったら、とちゅうでもやめなさい。
 - 5 問題のページは、3 - 1 から 3 - 10 まであります。

1. 次の文章を読んで、あとの問いに答えなさい。

昨年の夏に①リオデジャネイロでおこなわれたオリンピックの開会式では、世界がかかえている課題が取り上げられていました。その課題について考えてみましょう。

産業革命以降、大量生産が可能になり工業化が一気に進み、生活が便利になる一方で、②森林面積の減少などの③環境悪化が目立つようになりました。この課題を解決するためには特定の国だけではなく、さまざまな立場の国がそれぞれ意見を出し合い、ルールを決めていくことが大切だと思われます。④日本も先進国の1つとして、その動向が注目されています。私たちも限りある資源を大切に利用し、エネルギーの消費をおさえながら、日常生活をおくることをこころがける必要があります。

現在世界には（ ）億人以上の人々が暮らしています。しかし、⑤人種や民族、宗教、考えなどのちがいや領土問題から対立が多く、争いが絶えません。オリンピックではそうしたちがいや対立をこえて、はげましあったり、協力する感動的な場面を見ることができました。今後、世界の人口はさらに増えていくことが予測されています。すべての人々が自由に安心して暮らせる世界にするために何ができるでしょうか。

- (1) 文章中の空らん（ ）にあてはまる数字にもっとも近いものを次のア～オから1つ選び、記号で答えなさい。

ア. 50 イ. 60 ウ. 70 エ. 80 オ. 90

- (2) 下線部①について、1992年にこの都市で開かれた会議を次のア～ウから1つ選び、記号で答えなさい。

ア. 国連人間環境会議 イ. 地球サミット ウ. 持続可能な開発に関する世界首脳会議

- (3) 下線部②について、次の各問いに答えなさい。

問1 下の表1はブラジル、ロシア、オーストラリア、インドの森林面積等をあらわしています。ブラジルにあてはまるものを次のア～エから1つ選び、記号で答えなさい。

表1

	森林面積 (2013年) (千 ha)	対国土面積比 (%)	木材伐採高 (千 m ³)	うち針葉樹 (千 m ³)
ア	70,325	21.4	356,690	15,386
イ	815,013	47.7	203,000	135,459
ウ	495,506	58.2	267,653	48,260
エ	124,135	16.0	30,044	14,388

世界国勢図会2016/17

- 問2 日本の面積にしめる森林の割合にもっとも近いものを次のア～エから1つ選び、記号で答えなさい

ア. 46% イ. 56% ウ. 66% エ. 76%

問3 日本の木材輸入先の上位国の組み合わせとして正しいものを次の表2のア～エから1つ選び、記号で答えなさい。

表2

	ア	イ	ウ	エ
第1位	中国	カナダ	アメリカ合衆国	ロシア
第2位	カナダ	アメリカ合衆国	ブラジル	フィンランド
第3位	ブラジル	ロシア	フィンランド	中国

(4) 下線部③について、次の各問いに答えなさい。

問1 下の図1の①、②、③で囲まれた地域がかかえている問題を次のア～エからそれぞれ選び、記号で答えなさい。

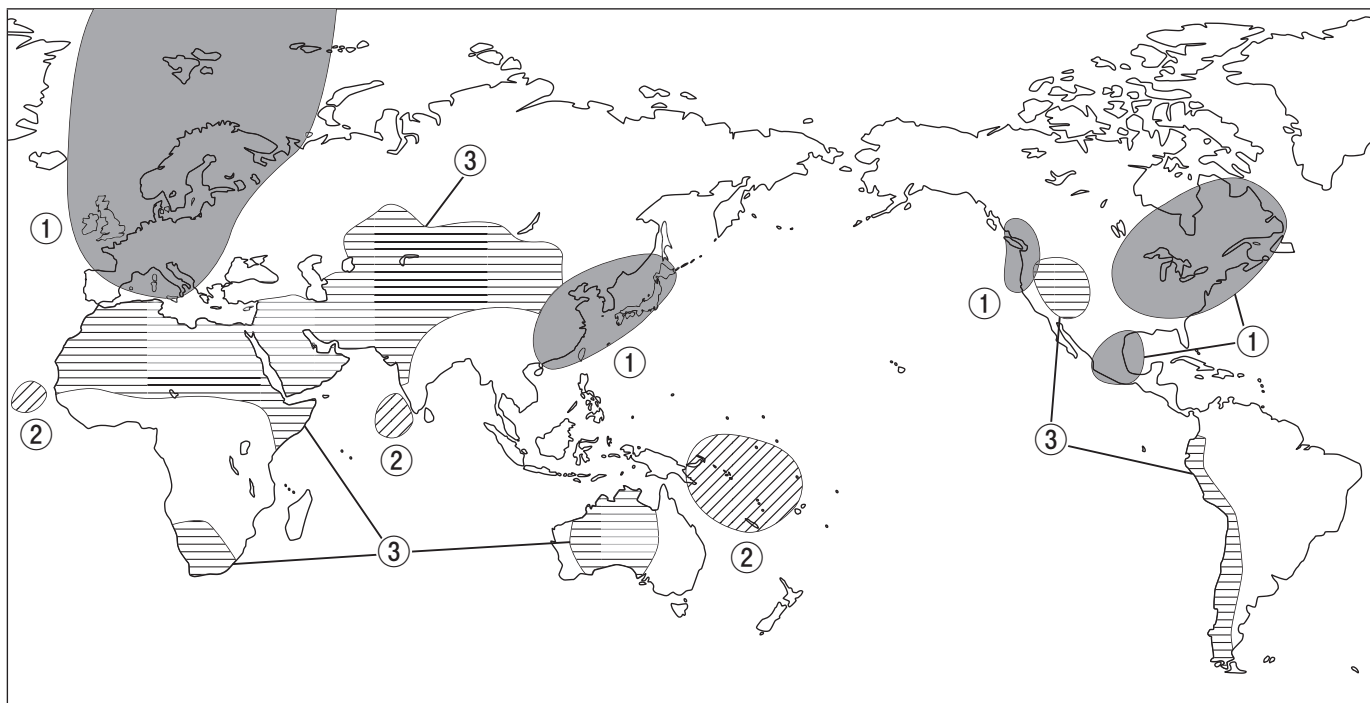


図1

- ア. 砂漠化が進行している。
- イ. 酸性雨の被害が大きい。
- ウ. 温暖化で水没の危機がある。
- エ. 熱帯林が減少している。

問2 下の図2の①・②にあてはまる語句の組み合わせとして正しいものを次のア～カから1つ選び、記号で答えなさい。

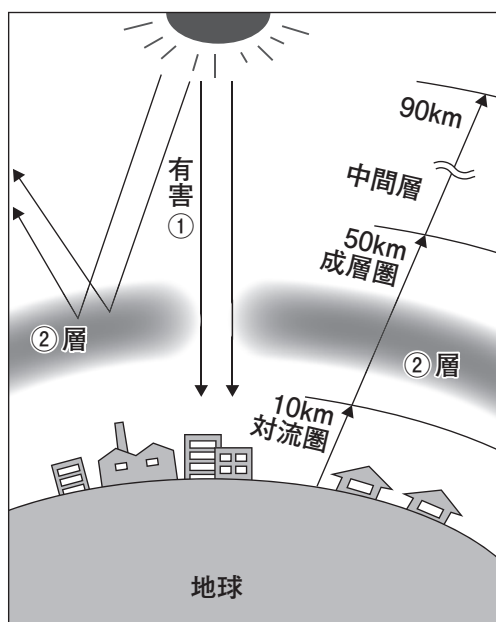


図2


	ア	イ	ウ	エ	オ	カ
①	オゾン	オゾン	ダイオキシソ	ダイオキシソ	紫外線	紫外線
②	ダイオキシソ	紫外線	オゾン	紫外線	ダイオキシソ	オゾン

問3 環境を守る意識を高める一環としてエコマークがあります。エコマークを次のア～エから1つ選び、記号で答えなさい。

ア



イ



ウ



エ



(5) 下線部④について、次の各問いに答えなさい。

問1 1997年に国内のある都市で開かれた会議では先進国の温室効果ガスの削減数値目標が定められました。ある都市とはどこですか、答えなさい。

問2 問1の温室効果ガスの1つが二酸化炭素です。下の表3は各国の二酸化炭素排出量の推移をあらわしています。Xの国名を答えなさい。

表3

	総排出量百万 t (1990年)	総排出量百万 t (2013年)
X	2,217	9,023
アメリカ合衆国	4,802	5,120
インド	534	1,869
ロシア	2,163	1,543

世界国勢図会2016/17

(6) 下線部⑤について、次の各問いに答えなさい。

問1 第2次世界大戦後、東西2つの国に分かれていましたが、1990年に統一されたヨーロッパの国はどこですか、次のア～オから1つ選び、記号で答えなさい。

ア. イギリス イ. フランス ウ. イタリア エ. ドイツ オ. オランダ

問2 第2次世界大戦後、人種、民族をこえて共同体が結成され、それが現在のEUに引き継がれています。昨年、国民投票によりEUからの脱退を決めた国を問1のア～オから1つ選び、記号で答えなさい。

問3 日本は固有の領土である国後島、択捉島、歯舞群島、色丹島の返還について、ロシア連邦と交渉してきました。その島々を何といいますか、漢字4字で答えなさい。

問4 国際紛争に対して日本も国際貢献が求められています。1992年に国連平和維持活動協力が成立し、政府は自衛隊をカンボジアへ派遣しました。平和維持活動をアルファベット3字で答えなさい。

2. 次の文章を読んで、あとの問いに答えなさい。

歴史上、最初に中国を1つにまとめたのは秦という王朝でした。しかし、秦はすぐに滅び、次に漢という王朝が約400年続きました。2世紀の終わりごろになると漢の政治は乱れ、農民の反乱などが起こります。そして、3世紀のはじめに①魏・呉・蜀の3つの国に分裂してしまいました。いわゆる三国時代です。

その後、統一と分裂をくり返しますが、589年に②隋という王朝が中国を統一します。隋は618年には滅んでしまう短い王朝でしたが、その後の中国にとって重要な制度をつくりました。

隋の制度を受け継いで栄えたのが唐という王朝でした。日本の平城京や平安京も手本とした都市（ 1 ）を首都とした王朝です。唐はとても国際的な王朝で、様々な国の商人たちが都で商売をおこない、③外国人であつても実力があれば重要な役職につく人もいました。

唐の力が弱まり滅びると、中国は分裂しますが、979年に④宋という王朝が中国を統一しました。宋は経済がとても栄えた王朝で24時間営業の商店などもあらわれはじめていました。しかし、宋は戦いには弱く、最後にはモンゴル人によって滅ぼされてしまいます。

モンゴル人は中国の一部を支配すると王朝の名前を元としました。⑤元は周囲の国々を攻めましたが、同時に交易をさかんにおこなつて栄えました。しかし、14世紀になると農民の反乱をきっかけとして、中国を追い出されてしまいます。

かわつて中国を統一したのが明という王朝です。明は交易をさかんにおこなつた元とはちがひ、民間人の貿易を厳しく禁止しました。⑥国と国との正式な貿易しか認めないこのような政策を海禁策と言ひます。しかし、自由な貿易ができなくなつた人々は海賊となつて中国東南沿岸を荒らしたり、勝手に貿易をしたりしました。16世紀、日本で天下統一を実現した（ 2 ）が明の征服を計画し、朝鮮へ出兵すると、明は朝鮮に援軍を送りこれを撃退しますが、大きな損害を受けました。これらが原因となつて明は衰退していき、民衆の反乱によつて滅んでしまいます。

中国の歴史で皇帝が国を支配する最後の王朝となるのが清です。この王朝は1911年からはじまる革命でたおされるまで続きます。この王朝のあとには中華民国が建国され、1949年に現在の中華人民共和国が成立します。

- (1) 文章中の空らん（ 1 ）・（ 2 ）にあてはまる言葉を答えなさい。
- (2) 下線部①について、魏について書かれた歴史書には、日本のある国から使者がやつてきて、金印と銅の鏡をあたえたという記録があります。ある国の名前を答えなさい。
- (3) 下線部②について、このころの日本の様子として正しいものを次のア～エから1つ選び、記号で答えなさい。
- ア. 聖武天皇が都に東大寺を、国ごとに国分寺を建てた。
 - イ. 聖徳太子が摂政となり、蘇我氏と協力して政治をおこなつた。
 - ウ. 『古事記』や『日本書紀』がつくられ、国の成り立ちを明らかにしようとした。
 - エ. 日本の風土に合つた文化が発展し、かな文字が使われるようになった。

(4) 下線部③について、遣唐使の一員として派遣された人物で、唐の皇帝につかえ、重要な役職についた人物を次のア～エから1人選び、記号で答えなさい。


ア. 小野妹子 イ. 阿倍仲麻呂 ウ. 鑑真 エ. 菅原道真

(5) 下線部④について、宋との貿易をさかんにするため、大輪田泊（現在の神戸港）を整備した人物を次のア～エから1人選び、記号で答えなさい。

ア. 源頼朝 イ. 足利義満 ウ. 藤原道長 エ. 平清盛

(6) 下線部⑤について、元は日本にも2度にわたって攻めて来ました。そのとき元軍と戦った武士たちは、戦い方が大きくちがうことにとまどい、苦戦しました。元軍の戦い方は日本の武士とどのようにちがいましたか、具体的な例を1つあげて説明しなさい。

(7) 下線部⑥について、当時の日明貿易は下のような札を用いて正式な貿易船かどうかを確かめていました。このような方法でおこなわれた貿易を何とよびますか、答えなさい。



3. 明治神宮外苑を訪れたサクラさんとミノル君の会話文を読んで、あとの問いに答えなさい。

サクラ：この場所に①こんどの東京オリンピックのメインスタジアムが建てられるのよね。

ミノル：2015年に解体された、もとの国立競技場は②1964年のアジアではじめて開催されたオリンピックのメインスタジアムとして使われたんだ。この写真は開会式の日本選手団の入場の様子だね。




(1) 下線部①について、このオリンピックが開催されるまでに、日本で予定されているできごとや、予測されていることとして正しいものを次のア～エから1つ選び、記号で答えなさい。

- ア. リニア中央新幹線の品川一名古屋間が開業する。
- イ. ラグビーワールドカップが開催される。
- ウ. 日本の総人口が1億人を下回る。
- エ. 国民の2人に1人が65歳以上の高齢者となる。

(2) 下線部②について、この年のできごととして正しいものを次のア～エから1つ選び、記号で答えなさい。

- ア. 東海道新幹線が開業した。
- イ. 大韓民国と国交を正常化した。
- ウ. 大阪で日本万国博覧会が開催された。
- エ. 沖縄が日本に返還された。



サクラ：こちらの白黒の写真は何かしら。同じように入場行進をしているように見えるけれど、様子がちがうわね。

ミノル：この写真も同じ場所でとられたものなんだよ。もとの国立競技場が建てられる前にあった明治神宮外苑競技場の写真だよ。実は③1940年にも東京でオリンピックが開催される計画があったんだ。1964年のオリンピック会場として活用された駒沢オリンピック公園とともにオリンピック競技会場の候補地だったんだよ。

サクラ：でも、この写真はスポーツの開会式ではないわよね。

ミノル：そうだね、この写真は④1943年の学徒出陣の時のものだよ。それまで兵役をまぬかれていた大学生も兵士として戦地に送られるようになったんだ。

(3) 下線部③について、なぜ1940年のオリンピックは東京で開催されなかったのでしょうか、考えられる理由として正しいものを次のア～エから1つ選び、記号で答えなさい。

- ア. 競技場の建設費が大幅に増加し、国民の反対の声が高まったため。
- イ. 選挙で新しく選ばれた東京都知事が中止を表明したため。
- ウ. 日本がハワイの真珠湾を攻撃し、アメリカとの戦争がはじまったため。
- エ. 日本と中国との戦争が長期化しており、開催を反対する国もあったため。

(4) 下線部④について、これよりあとにおきたできごととしてまちがっているものを次のア～エから1つ選び、記号で答えなさい。

- ア. アメリカ軍が沖縄島に上陸する。
- イ. 東京大空襲により多くの住宅が焼かれる。
- ウ. ソ連が満州や南樺太に攻めこむ。
- エ. アメリカが日本への石油や鉄の輸出を禁止する。

ミノル：この明治神宮外苑が整えられる前、ここには青山練兵場という軍隊が訓練する場所があったんだ。明治神宮外苑の中には⑤明治天皇が軍の訓練を視察した場所をしめす石碑も残っているんだよ。

サクラ：身近な場所にも戦争とかかわりの深い歴史があるのね。

ミノル：それだけ日本には戦争とかかわってきた歴史があるんだよ。この年表を見てごらん。明治政府は、明治時代の後半に外国との戦争にふみきっていくんだ。

1873年（明治6年）	徴兵令が出される。
1894年（明治27年）	日清戦争がおこる。・・・⑥
1904年（明治37年）	日本と（ 1 ）の戦争が始まる。
1914年（大正3年）	第1次世界大戦に参戦する。・・・⑦

(5) 下線部⑤について、明治時代のできごとを説明した次のア～ウを年代の古い順に並べかえなさい。

- ア. 大韓帝国を併合し植民地とした。
- イ. 藩を廃止して、新しく県を設置した。
- ウ. 大日本帝国憲法が発布された。

(6) 年表中の⑥について、この戦争によって日本が清から得た島の名前を答えなさい。

(7) 年表中の空らん（ 1 ）にあてはまる国名を答えなさい。

(8) 年表中の⑦のころの様子としてまちがっているものを次のア～エから1つ選び、記号で答えなさい。

- ア. 第1次世界大戦の間、輸出が大幅に増加した。
- イ. 国内では米をはじめ、物の値段が高くなった。
- ウ. 女性の権利が拡大し、衆議院の選挙権を持てるようになった。
- エ. 労働者や農民による労働運動や農民運動がさかんになった。

サクラ：こんどの東京オリンピックの時には今よりも世界が平和になっていることを願いたいわ。

ミノル：そうだね。東京と2020年のオリンピック開催地を最後まであきらめた都市が2つあったね。そのうちの1つの都市がある（ 2 ）では、残念なことにテロやクーデター未遂^{みすい}事件などがおきてしまった。世界が平和になっていくために、私たちもできることを考えていかなければいけないね。

(9) 文章中の空らん（ 2 ）にあてはまる国名として正しいものを次のア～エから1つ選び、記号で答えなさい。

- ア. イギリス
- イ. イラク
- ウ. シリア
- エ. トルコ

4. 次の文章を読んで、あとの問いに答えなさい。

最高裁判所の大ホールには、右手に正邪^{せいじや}を断ずる剣^{けん}を、左手に衡平^{こうへい}をあらわす秤^{はかり}を持つ法の女神のブロンズ像があります。この像は、公正な裁判により社会の正義が実現されることをあらわしているといわれています。そして、公正な裁判のため、裁判官は、立法権をになう（ 1 ）や行政権をになう（ 2 ）などから独立して職権をおこない、憲法と（ 3 ）にのみ拘束^{こうそく}されることが日本国憲法に定められています。

裁判所には、最高裁判所、地方裁判所、簡易裁判所、①家庭裁判所、（ 4 ）裁判所の5種類があります。地方裁判所では、②裁判員裁判がおこなわれることがあります。平成21年にはじまったこの制度では、国民が裁判員として③刑事裁判に参加し、被告人が有罪か無罪か、有罪の場合はどのような刑にするかを裁判官と一っしょに決めていきます。この制度により、主権者である国民の判断が裁判に反映されるようになりました。そして、裁判が国民にとって身近でわかりやすいものになり、司法への信頼がいつそう高まることが期待されています。

- (1) 文章中の空らん（ 1 ）～（ 4 ）にあてはまる言葉を答えなさい。
- (2) 下線部①について、家庭裁判所ではどのような裁判がひらかれますか、説明しなさい。
- (3) 下線部②について、裁判官3人でおこなわれる裁判員裁判の裁判員は何人ですか、答えなさい。
- (4) 下線部③について、裁判には刑事裁判のほかに、お金の貸し借りなど法律上の争いごとを解決するための裁判があります。この裁判を何といいますか、答えなさい。