

2017 年度

2月2日入試

社 会

- 注意
- 1 開始の“チャイム”が鳴るまで中を見てはいけません。
 - 2 答えはすべて解答用紙の解答らんじに、はっきり書きなさい。
 - 3 特別な指示のない限り、漢字で書くべきところは漢字で答えなさい。
 - 4 終わりの“チャイム”が鳴ったら、とちゅうでもやめなさい。
 - 5 問題のページは、2 - 1 から 2 - 14 まであります。

1. 次の文章を読んで、あとの問いに答えなさい。

環太平洋経済連携協定（TPP）とは、太平洋に面した国々が、貿易・サービスのうごきを活発にする取り決めのことで、日本はアメリカ合衆国などと貿易のルールについて調整してきましたが、2015年10月に基本的に合意しました。その結果、日本は全農産物の81%にあたる品目の関税をなくすことになりました。国内産業を守るために関税の維持を求めてきた重要5項目（①米、②麦、③牛・豚肉、乳製品、④砂糖）については、段階的に低くしたり、輸入枠を設けたりすることになりますが、70%の品目で関税を残すことができました。この重要5項目について、日本を中心に現状を見てみましょう。

(1) 下線部①について、米作りの作業をしめた下の図1を参考にして次の各問いに答えなさい。

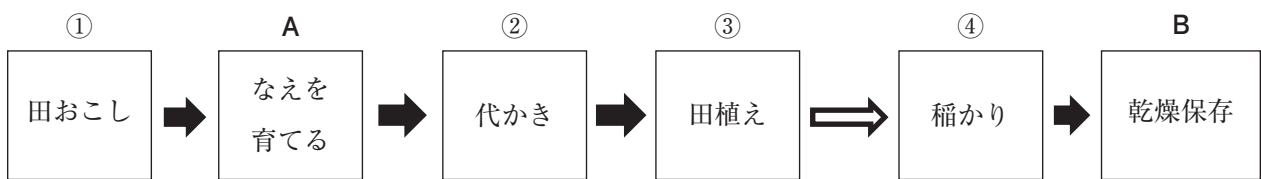


図1

問1 米作りについて説明した文として正しいものを、次のア～エから1つ選び、記号で答えなさい。

- ア. 農業機械はすべての農家が1台ずつ持ったほうが効率がよい。
- イ. 米の生産量をもっとも多いのは、地方別で見ると北海道地方である。
- ウ. 米は平地だけで作られ、急な斜面では作られていない。
- エ. 近年、北海道、九州をはじめ地域独特の米が作りだされている。

問2 図1の①～④の作業を説明した文を、次のア～エからそれぞれ選び、記号で答えなさい。

- ア. 実った稲をかり取る。 イ. 田に水を入れ、平らにならす。
- ウ. なえを水田に植える。 エ. 土を耕す。

問3 図1のA・Bに使用される設備を、次のア～エからそれぞれ選び、記号で答えなさい。

- ア. パイプライン イ. ビニールハウス
- ウ. ヘリコプター エ. カントリーエレベーター

問4 図1の③と④の間の⇒の時期におこなう作業としてまちがっているものを、次のア～エから1つ選び、記号で答えなさい。

- ア. 中干しをおこなう。 イ. 脱穀する。
- ウ. 稲を雑草から守る。 エ. 稲を病気、害虫から守る。

(2) 下線部②について、次の各問いに答えなさい。

問1 次の図2は、小麦の都道府県別収穫高とその割合をしめしています。図のXにあてはまる都道府県名を答えなさい。なお、数値は2015年のものです。

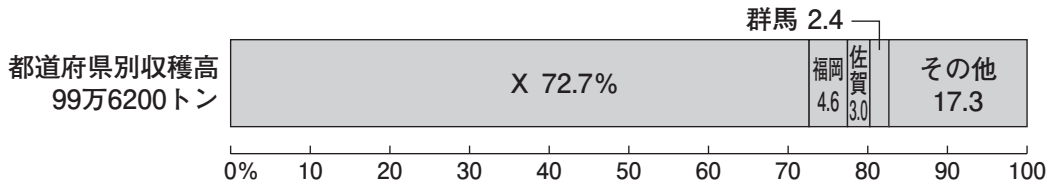


図2 日本のがた2016

問2 次の図3は、小麦の生産が多い国（上位5か国）をしめし、図の①～④は、ロシア、アメリカ合衆国、インド、中国のどれかです。①にあてはまる国を、下のア～エから1つ選び、記号で答えなさい。なお、数値は2013年のものです。

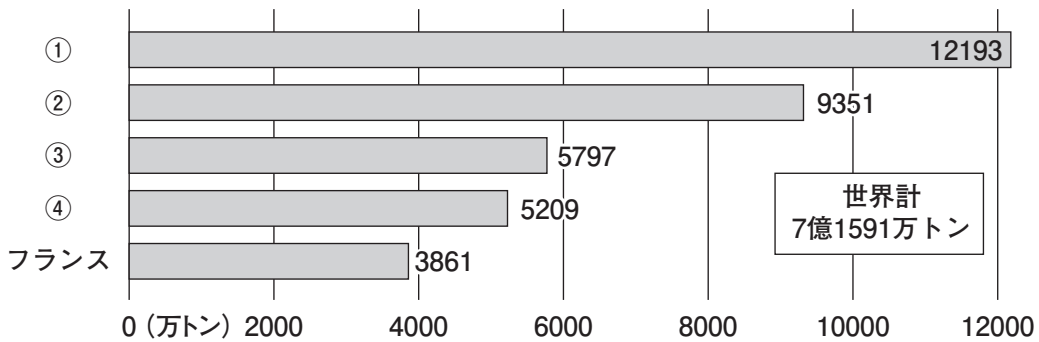


図3 日本のがた2016

ア. ロシア イ. アメリカ合衆国 ウ. インド エ. 中国

問3 次の表は、日本の小麦のおもな輸入先をしめしています。表のYにあてはまる国を下のア～エから1つ選び、記号で答えなさい。

	2000年	2010年	2013年	2014年	2014年 (%)
アメリカ合衆国	317.5	330.5	322.9	298.6	51.8
Y	148.3	101.8	167.9	179.9	31.2
オーストラリア	119.4	109.3	95.9	92.9	16.1
合計	585.4	547.6	619.9	575.9	100

日本のがた2016

ア. 中国 イ. ロシア ウ. カナダ エ. フランス

(3) 下線部③について、次の各問いに答えなさい。

問1 次の図4は、それぞれ乳用牛、肉用牛、豚、にわとり（たまご用）の飼育数が多い上位5つの都道府県をしめして、図の数字はその順位です。肉用牛と豚にあてはまるものをア～エからそれぞれ選び、記号で答えなさい。なお、順位は2015年のものです。

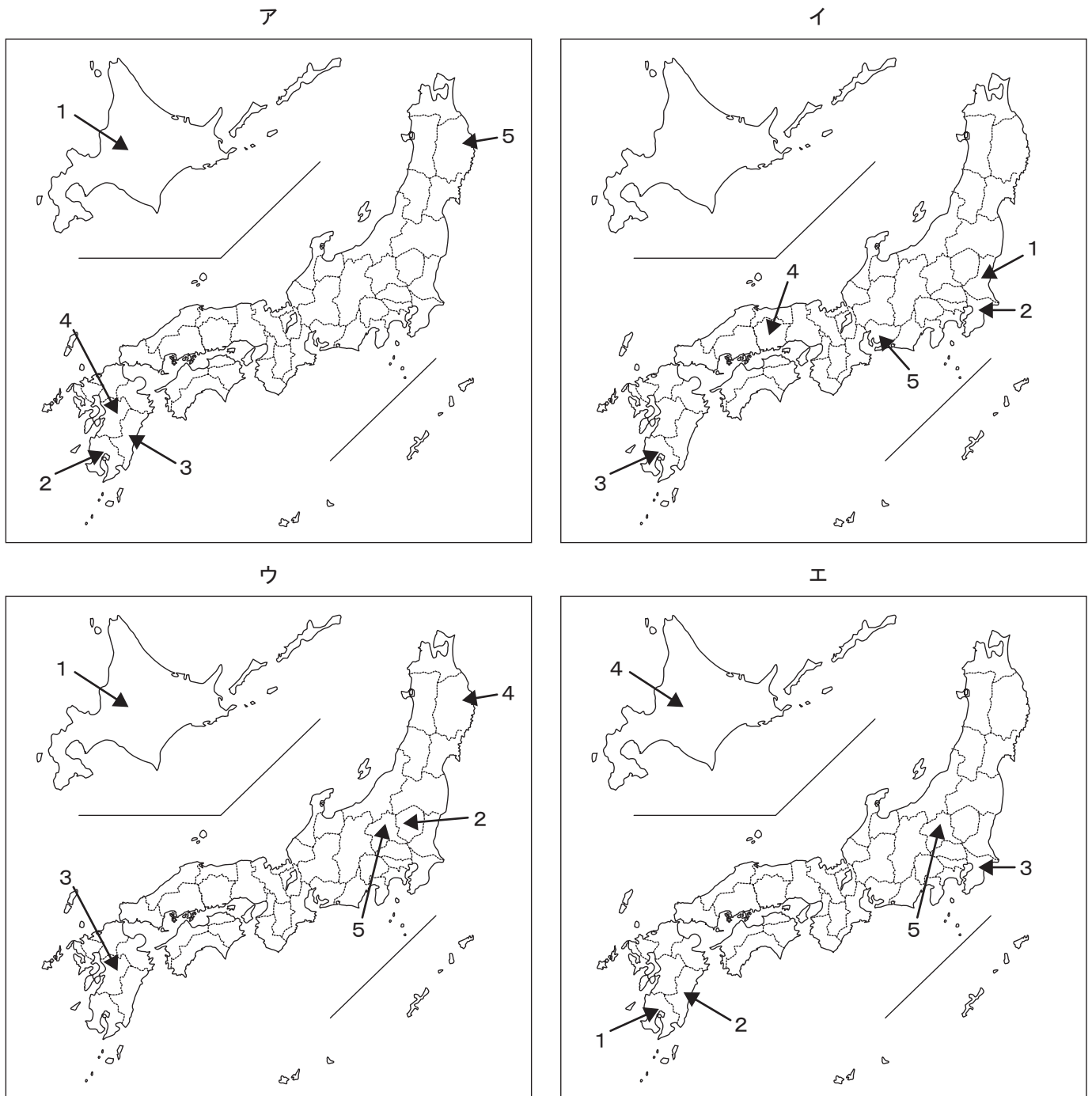


図4

日本のすがた2016から作成

問2 TPPが発効した場合、乳製品は約1割程度の輸入増加が見込まれ、北海道などの酪農家は深刻な打撃を受けるとされています。その一方で、消費者側からみれば、さまざまな良い点もあるとされています。乳製品に関して、ここ数年品薄しなうすで問題となっている「食料品」の名前をいれて、その良い点を簡単に説明しなさい。

(4) 下線部④について、次の写真1, 2はそれぞれ砂糖の原料になっている農作物を撮影したものです。それぞれの名前をカタカナで答えなさい。



写真1



写真2

2. 次の文章を読んで、あとの問いに答えなさい。

歴史の教科書をひらくと人類の誕生から現在にいたるまで、細かく説明されています。どうして私たちが生まれるはるか前のできごとがくわしくわかるのでしょうか。

日本列島に人々がくらしはじめたころの生活の様子は、遺跡の発掘調査などから多くのことがわかってきました。縄文時代の人々が食べたものや道具などを捨てていた場所を①貝塚といます。貝塚からは貝がら、木の実、魚や動物の骨などの食べ物のかす、土器、石器、骨角器などの道具類のかけら、石や貝などでつくられたアクセサリーなどが発掘されています。

②弥生時代の遺跡からは稲作のあとが見つかっています。③食料がたくわえられるようになると人々のくらしも大きくかわっていくこととなります。このころの様子は中国の歴史書にも記されています。

日本列島各地には④大きな古墳がたくさん残っています。これらは、3～7世紀ごろに各地でさかんにつくられました。この古墳の規模や特徴、分布などからもこの時代の歴史を考えることができます。また、このころ⑤漢字が伝わり、少しずつ使用されるようになっていきました。漢字を使用し⑥8世紀にまとめられた『古事記』と『日本書紀』には国の成り立ちが記されています。


各地に残されている歴史的な建築物からもその時代の様子を知ることができます。藤原頼通は極楽浄土へのあこがれから宇治に（ 1 ）を建てました。室町時代に足利義政によって建てられた（ 2 ）やその近くの東求堂からは現在の日本文化のルーツをうかがい知ることができます。

このように現在に残されているさまざまなものから、歴史は解き明かされてきました。ただし、それが正しいのか、疑って見ることも大切です。例えば、ながらく⑦源頼朝の肖像画と考えられていた絵がありますが、近年では描かれているのは別の人物ではないかという説もとなえられるようになりました。いままで明らかになってきたできごとを再検討したり、新しい発見がなされたりすることによって、今、教科書に書かれている内容も将来かわっていくかもしれません。

(1) 下線部①について、貝塚からわかる縄文時代の人々のくらしとしてまちがっているものを次のア～エから1つ選び、記号で答えなさい。

- ア. 貝や木の実を集めて食べていた。
- イ. 土器を使って食料を調理していた。
- ウ. 金属製の釣り針を使って釣りをしていた。
- エ. 石や貝などでアクセサリーをつくっていた。

- (2) 下線部②について、弥生時代の遺跡から発掘されたものとしてまちがっているものを次の写真ア～エから1つ選び、記号で答えなさい。ただし、写真の縮尺はそれぞれ異なります。



- (3) 下線部③について、くらしはどのように変化したのでしょうか、まちがっているものを次のア～エから1つ選び、記号で答えなさい。

- ア. 食料をたくわえるため、高床の建物がつくられるようになった。
- イ. 集落のまわりが濠ほりや柵さくで囲われるようになった。
- ウ. 強い力でむらを指導する指導者があらわれた。
- エ. 食料の確保が簡単になり争いが無くなった。

- (4) 下線部④について、なぜこのように大きな古墳がつけられたのでしょうか、その理由を簡単に説明しなさい。

- (5) 下線部⑤について、このころ漢字のほか仏教や儒教、土器づくりや養蚕ようさん、機織りはたおの技術などが日本に伝えられました。朝鮮半島から日本へと移り住み、これらの技術を伝えた人々を何といいますか、答えなさい。

- (6) 下線部⑥について、8世紀とは西暦何年～何年のことですか、解答らんにあわせて答えなさい。

(7) 文章中の空らん (1)・(2) にあてはまる建物として正しいものを次の写真ア～エからそれぞれ選び、記号で答えなさい。

ア



イ



ウ



エ



(8) 下線部⑦について、この人物の説明としてまちがっているものを次のア～エから1つ選び、記号で答えなさい。

- ア. 平治の乱で平清盛に敗れ、伊豆に流された。
- イ. 妻は北条政子である。
- ウ. 1192年に征夷大將軍に任命された。
- エ. 御成敗式目を定めた。

<問題は次ページに続きます。>

3. 中学生のサクラさんは、夏休みに、社会科の宿題「東京の遺跡や博物館の訪問レポート」に取り組みました。レポートの題材を探そうと、上野にやってきたサクラさんは、何枚かの写真を撮ってきました。【写真1】～【写真5】を見て、あとの問いに答えなさい。

【写真1】



【写真2】



【写真3】



【写真4】



【写真5】



- (1) 【写真1】【写真2】について、次の文章中の空らん（ 1 ）～（ 4 ）にあてはまる言葉を答えなさい。

【写真1】は上野公園にある「彰義隊慰霊碑」という碑です。今年、江戸幕府15代将軍の（ 1 ）が政権を朝廷に返上した（ 2 ）から150年目です。この（ 2 ）の後におきた戊辰戦争では、旧幕府軍と新政府軍が戦いました。そのとき敗れた、旧幕府軍に味方した彰義隊の人々が、ここに葬られています。

一方で明治政府は、様々な政治改革をすすめていきました。工業をさかんにして、強い軍隊をもつという（ 3 ）に力を入れたほか、国の収入を安定させるために、土地に対する税のしくみを改めました。こうした過程で活躍したのが【写真2】の（ 4 ）です。

- (2) 【写真3】は、明治時代に条約改正を成功させた陸奥宗光の屋敷です。条約改正交渉についてまちがっているものを、次のア～エから1つ選び、記号で答えなさい。

- ア. 陸奥宗光は、ロシアと対立しているイギリスを相手に条約改正の交渉をおこなって、領事裁判権をなくすことに成功した。
- イ. 陸奥宗光が条約改正を成功させる前には、関税自主権がなかったために、日本で罪を犯した外国人を日本の法律で裁判することができなかった。
- ウ. 陸奥宗光の前にも、明治政府は使節を送って条約改正の交渉をおこなってきたが、日本の近代化の遅れなどを理由に、交渉はなかなか進まなかった。
- エ. 陸奥宗光が条約改正を成功させたころ、日本と清は朝鮮国内でおこっていた内乱に軍隊を送り込み、両国の間で戦争がはじまった。

- (3) 【写真4】は、上野動物園の中にある「動物慰霊の碑」です。サクラさんは先輩がゴールデンウィークに上野動物園でボランティア活動をしていると聞いて、友達と行ったときに、この碑をはじめで見ました。今回あらためてこの碑を見に行き、わかったことをまとめました。

【サクラさんのメモ】

- 「動物よ安らかに」と刻まれている。
 - 動物園で命をおとした動物たちの慰霊のための碑。
 - 「①戦時猛獣処分」で犠牲になった動物の慰霊のための碑でもある。
- 「戦時猛獣処分」とは？
 - ②空襲などで、動物園施設が破壊されて猛獣（ゾウ・ライオン・トラ・熊・毒蛇など）が逃げ出すことのないように、猛獣を毒殺・射殺などで処分したこと。
 - ゾウは毒入りのえさを食べなかったため餓死させた。→土家由岐雄著作の『かわいそうなぞう』などにもえがかれた。

問1 【サクラさんのメモ】の中に出てくる下線部①の戦時とは、どの戦争のときのことでか、次のア～オから1つ選び、記号で答えなさい。

- ア. 湾岸戦争 イ. 第1次世界大戦 ウ. 第2次世界大戦 エ. 日清戦争 オ. 日露戦争

問2 【サクラさんのメモ】の中に出てくる下線部②の空襲では、全国の都市が焼かれて多くの人々が犠牲になりました。世界ではじめて原子爆弾が落とされ、昨年の夏にオバマ前大統領が現職のアメリカ大統領としてはじめて訪問した都市はどこですか、答えなさい。

問3 戦争のあと、日本は戦争のない民主主義の新しい国をつくることを目指して政治や社会の改革をおこないました。その過程でつくられた「日本国憲法」の三原則のうち、下の【資料】はどれをしめていますか、答えなさい。

【資料】

- 第九条 ①日本国民は、正義と秩序を基調とする国際平和を誠実に希求し、国権の発動たる戦争と、武力による威嚇又は武力の行使は、国際紛争を解決する手段としては、永久にこれを放棄する。
- ②前項の目的を達するため、陸海空軍その他の戦力は、これを保持しない。国の交戦権は、これを認めない。

- (4) 【写真5】は、上野公園にある美術館です。昨年の夏に世界遺産に指定されたこの美術館の名前を答えなさい。

<問題は次ページに続きます。>

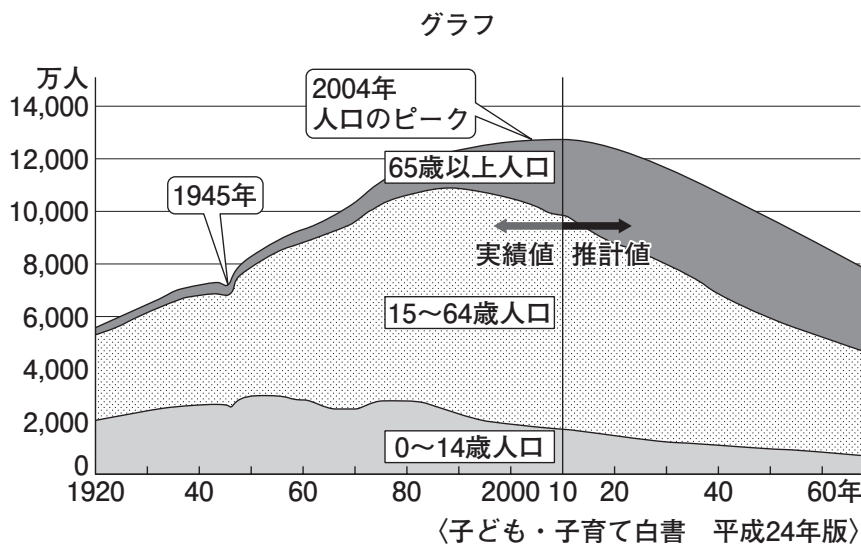
4. 次の文章を読んで、あとの問いに答えなさい。

昨年7月におこなわれた①参議院議員選挙は、公職選挙法の改正により選挙権年齢が満（あ）歳以上に引き下げられた最初の国政選挙でした。

この改正前の2014年12月の衆議院議員選挙では、20代の投票率が32.58%、20～24歳は29.72%と30%を下回り、②若い世代の人たちの投票率の低下や政治への興味や関心が失われていくことが心配されていました。今回の改正をきっかけに、若い世代の人たちが、よりいっそう積極的に政治にかかわり、議論が深まることが期待されています。

そもそも民主主義国家では、幅広い国民の意見にもとづき、議論を通じて政治を決定することが重要とされています。1890（明治23）年にはじめて実施された③第1回衆議院議員選挙では、選挙権年齢は満（い）歳以上という条件のほか制限があり、有権者は全人口のわずか1.13%に過ぎませんでした。その後、選挙権の制限が段階的にゆるめられ、より多くの人たちの意見が反映されるようになっていきました。1945（昭和20）年には選挙権年齢は満（う）歳以上となり、翌年、④衆議院議員が選出されました。

- (1) 文章中の空らん（あ）～（う）にあてはまる数字をそれぞれ答えなさい。
- (2) 下線部①について、参議院議員選挙は何年ごとにおこなわれますか、答えなさい。
- (3) 下線部②の原因の1つに、次のグラフがあらわす人口構造の変化があげられます。このグラフから読みとれる変化を何といいますか、答えなさい。



(4) 下線部③について、このときの選挙権はどのような人がもっていましたか、年齢以外の条件を解答らんにあわせて答えなさい。

(5) 下線部④について、次の各問いに答えなさい。

問1 国会のしごとのうち、衆議院のみにあてはまるものを次のア～オから1つ選び、記号で答えなさい。

- ア. 内閣総理大臣の指名 イ. 内閣不信任決議 ウ. 法律の審議
エ. 予算の審議 オ. 憲法改正の発議

問2 選挙で立候補できる年齢が、衆議院議員と同じものを次のア～オからすべて選び、記号で答えなさい。

- ア. 参議院議員 イ. 都道府県議会議員 ウ. 都道府県知事
エ. 市（区）町村長 オ. 市（区）町村議会議員