

2017 年度

2月1日入試

# 社 会

- 注意
- 1 開始の“チャイム”が鳴るまで中を見てはいけません。
  - 2 答えはすべて解答用紙の解答らんじに、はっきり書きなさい。
  - 3 特別な指示のない限り、漢字で書くべきところは漢字で答えなさい。
  - 4 終わりの“チャイム”が鳴ったら、とちゅうでもやめなさい。
  - 5 問題のページは、1 - 1 から 1 - 16 まであります。

1. 次の文は、サクラさんと兄のミノル君の会話です。サクラさんは、夏休みの社会の研究課題について昨年の5月のサミット（第42回先進国首脳会議）がおこなわれた伊勢志摩を中心とした東海地方を調べることにしました。今、ミノル君からアドバイスをもらって課題を作成しているところです。

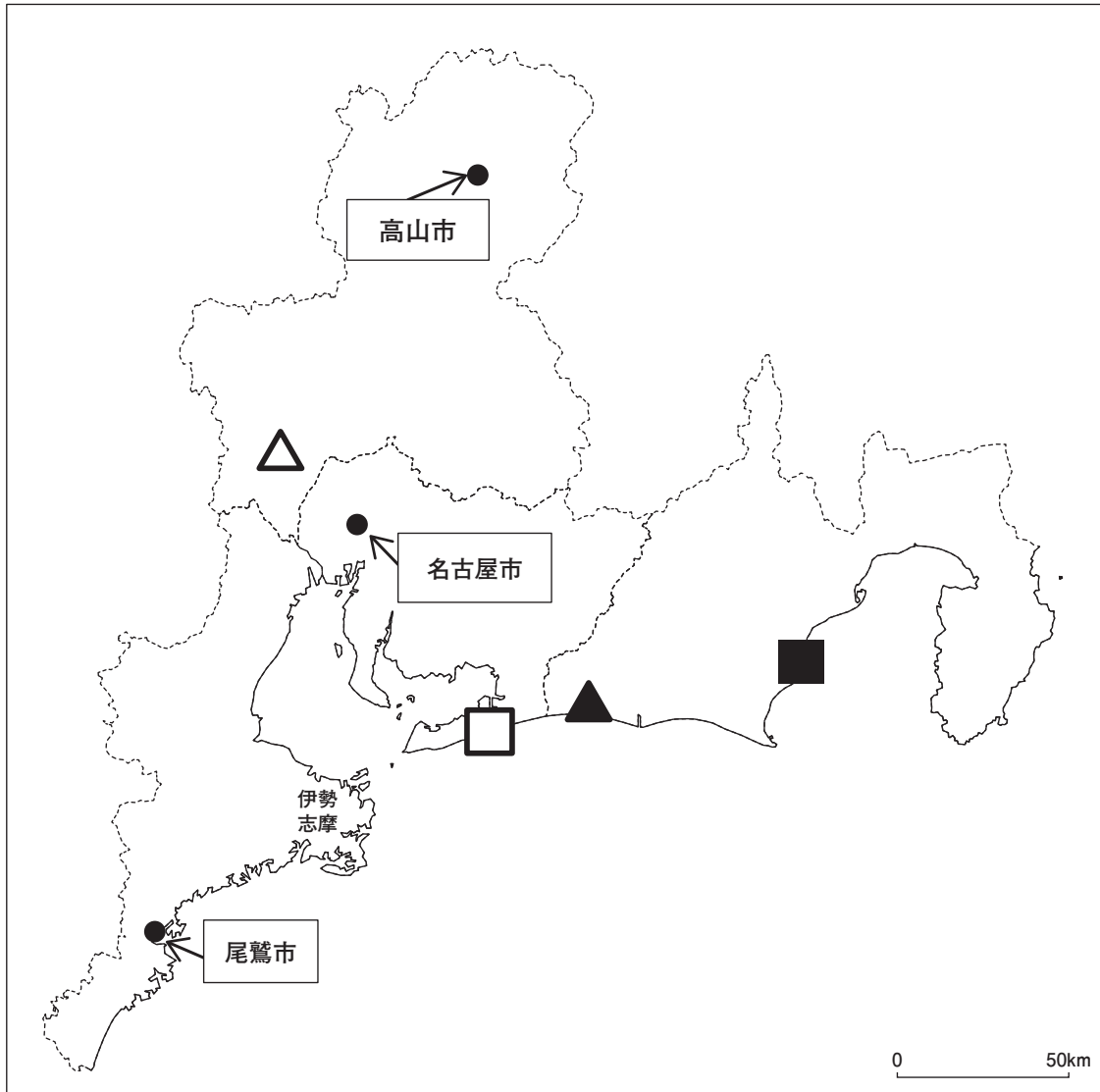


図1

ミノル：ここでは、東海地方を、①三重県、愛知県、岐阜県、そして静岡県の4つの県と考えることにするね。  
その三重県でサミットが開かれたんだよね。

サクラ：ここに世界の②先進7か国の首脳（大統領や首相）が集合し、世界経済や地球温暖化などの問題が話し合われたのよね。

(1) 下線部①について、次の表1は、これらの4つの県の、県全体の人口、県内人口第1位の都市の人口、県内人口第2位の都市の人口をしめしています。三重県にあてはまるものをア～エから1つ選び、記号で答えなさい。

表1 (万人)

	県全体の人口	第1位の都市の人口	第2位の都市の人口
ア	181.4	30.8	28.6
イ	748.4	226.4	42.3
ウ	370.1	80.9	71.6
エ	203.2	41.3	16.1

国勢調査2010年

(2) 下線部②について、この先進7か国としてまちがっているものを次のア～オから1つ選び、記号で答えなさい。

- ア. イギリス      イ. フランス      ウ. 中国      エ. アメリカ合衆国  
オ. カナダ

サクラ：次はこの地方の気候を考えようと思うけれど、どのように分けるのがよいかしら。

ミノル：北部、中央部、そして南部に分けられるね。③気温と降水量を比較しよう。

(3) 下線部③について、次の表2の1～3はそれぞれ図1中の高山市、名古屋市、尾鷲市の気温と降水量をしめしています。1～3とそれぞれの市との組み合わせとして正しいものを次のア～カから1つ選び、記号で答えなさい。

表2 (上の段が気温℃ / 下の段が降水量 mm)

	1月	2月	3月	4月	5月	6月	7月	8月	9月	10月	11月	12月	全年
1	6.7	7.4	10.5	15.5	19.7	20.8	25.1	26.8	22.5	18.5	15.1	10.8	16.6
	166	60	344.5	339.5	126	615	770.5	838.5	1064	56	389.5	323	5092.5
2	-1.2	-0.6	3.5	10.9	17	19.1	24	24.3	18.9	12.8	9.3	3.7	11.8
	156.5	62	150.5	148.5	75	155	145.5	279	232	93	146.5	128	1771.5
3	4.9	5.7	9.7	15.2	21.3	22.3	26.5	28.1	23.1	18.4	14.3	9.3	16.6
	116	35	139	148.5	98	196	227.5	296.5	262	64.5	137	83	1803

気象庁 HP (2015年) から作成

	ア	イ	ウ	エ	オ	カ
高山市	1	1	2	2	3	3
名古屋市	2	3	1	3	1	2
尾鷲市	3	2	3	1	2	1

サクラ：今度は④地形について考えましょうね。どんな特徴のある地形がみられるかしら。

ミノル：北部の山脈，中央部の平野，そして南部の海岸地形などさまざまだね。

(4) 下線部④について，次の各問いに答えなさい。

問1 図1の▲付近には，木曾川，長良川，揖斐川などの大きな川にはさまれ，海面より低い土地が多くあります。次の図2がしめしている，堤防より低い土地を何とよびますか，答えなさい。



図2

問2 図1の▲付近で見られる地形の説明として，正しいものを次のア～エから1つ選び，記号で答えなさい。

- ア. 世界文化遺産の1つを構成している富士山がここに位置している。
- イ. 日本三大景勝地の1つである三保の松原がここに位置している。
- ウ. ウナギなどの養殖で有名な浜名湖がここに位置している。
- エ. 茶の栽培で有名な牧ノ原とよばれる台地がここに位置している。

ミノル：次に農業について考えよう。この地域では、静岡県のお茶とみかんの栽培が有名だね。

サクラ：愛知県を中心に⑤近郊農業もさかんよね。この地域では、を独特な方法で栽培しているのよね。

(5) 下線部⑤について、次の各問いに答えなさい。

問1 「近郊農業」とはどのような農業ですか、20字以内で説明しなさい。なお、句読点や記号も字数に数えます。

問2 図1の□の半島では、下の写真のような方法でが栽培されています。その農産物を次のア～エから1つ選び、記号で答えなさい。なお、表3はその農産物の都道府県別出荷量の全国にしめる割合をしめしています。



写真

表3

都道府県	出荷量割合 (%)
愛知県	29.0
沖縄県	18.4
福岡県	6.8
鹿児島県	6.4
長崎県	4.5
全 国	100%

農林水産省 HP (2014年)

ア. キャベツ

イ. トマト

ウ. キク

エ. ピーマン

サクラ：漁業についても見ておきたいわ。サミットが開かれた伊勢志摩では、リアス海岸での養殖がさかんで、首脳へのお土産に真珠が贈られていたわよね。

ミノル：太平洋岸には、<sup>⑥</sup>焼津漁港のようにカツオやマグロの遠洋漁業の基地もあるよね。

(6) 下線部⑥について、焼津漁港は図1の■付近に位置しています。次の図3は、日本の遠洋漁業、沖合漁業、沿岸漁業、海面養しよく業、内水面漁業・養しよく業の生産量の変化をしめしています。図中のア～エから遠洋漁業にあてはまるものを1つ選び、記号で答えなさい。

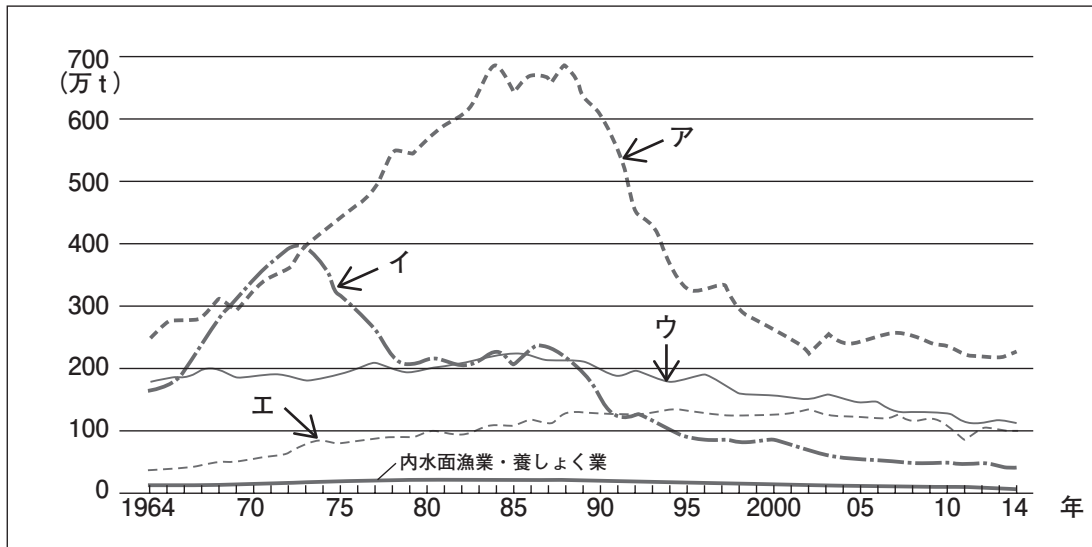


図3

日本のすがた2016

ミノル：最後に、工業だけど、中京工業地帯と東海工業地域が広がる日本の工業の中心なんだよね。

サクラ：その原料・製品を輸出・輸入しているのが<sup>⑦</sup>名古屋港なのよね。

(7) 下線部⑦について、次の表4は、成田国際空港、東京港、名古屋港、大阪港の4つの貿易港の輸入品とその金額(円)で計算した割合をしめしています。名古屋港にあてはまるものを次のア～エから1つ選び、記号で答えなさい。なお、数値は2014年のものです。

表4

	おもな輸入品 (%)
ア	通信機 (14.0), 医薬品 (9.4), 集積回路 (9.3), 精密機械 (8.5), コンピュータ (8.4)
イ	衣類 (7.8), コンピュータ (5.9), 魚と貝 (4.9), 肉類 (4.3), <sup>注1</sup> 音響・映像機器 (3.7)
ウ	衣類 (16.7), 肉類 (5.7), 家庭用電気機械 (4.2), 金属製品 (3.0)
エ	<sup>注2</sup> 液化ガス (14.3), <sup>注3</sup> 石油 (13.4), 衣類 (6.3), アルミニウム (4.8)

注1 音響・映像機器は部品を含みます。

日本のすがた2016

注2 液化ガスは液化天然ガス, 液化石油ガスなどです。

注3 石油は原油と石油製品の合計です。

<問題は次ページに続きます。>

2. 下の資料は、歴史の好きな中学生ヤヨイさんが、家族で北陸を旅行するときにつくった【旅のしおり】です。  
これを見て、あとの問いに答えなさい。

【旅のしおり】

【1日目】  
上野  
↓ 北陸新幹線  
( ① )  
↓ 特急サンダーバード  
福井  
あすわやま  
・足羽山古墳群…②  
きた しょう  
・北の庄城跡……③

【2日目】  
福井  
↓ JR 越美北線  
えつ み ほくせん  
いちじょうだに  
一乗谷遺跡……④  
↓ バス  
永平寺

【3日目】  
福井  
↓ 特急しらさぎ  
( ① )  
↓ 北陸新幹線  
上野

(1) 【旅のしおり】の【1日目】を見て、次の各問いに答えなさい。

問1 ヤヨイさんたちは、上野から2015年3月に開通した北陸新幹線に乗って、終点の( ① )で下車しました。空らん( ① )に入る都市名を答えなさい。

問2 新幹線が開通していない福井には特急でむかい、福井市内では②の「足羽山古墳群」と市立郷土歴史博物館を見学しました。郷土歴史博物館には、この古墳から見つかった様々なものが展示されていました。古墳について正しいものを次のア～エから1つ選び、記号で答えなさい。

ア. この古墳からは沖縄周辺でしか取れないイモガイという貝を使った腕輪がみつかったが、これはこの古墳に葬られている人物が、沖縄までを支配下に入れていたことをしめしている。

イ. 古墳は、もともとあった山を利用してつくられた墓で、大阪府にある大仙古墳はその代表である。

ウ. 古墳には人や動物などを表現した、土製の土偶や埴輪(はにわ)というものが並べられていることが多い。

エ. 古墳を築くには優れた技術者に命令し、多くの人々を働かせることのできる大きな力が必要であったと考えられている。




問3 ヤヨイさんは、市立郷土歴史博物館で開催されていたワークショップ（体験学習）に参加しました。ヤヨイさんがつくったのは下のようなお金のレプリカ（模造品）です。このお金の実物は銅でできていて、おもに奈良の都で使われました。奈良の都にもっとも関係の深いものを、次のア～オから1つ選び、記号で答えなさい。



ア



イ




ウ



エ



オ



問4 福井駅の近くにある③の「北の庄城」は、織田信長の死後、柴田勝家が豊臣秀吉に攻められて命を落とした城です。豊臣秀吉がおこなった政策で、百姓たちから鉄砲や弓などを取り上げて反抗できないようにするための政策を何といいますか、漢字2字で答えなさい。

- (2) ヤヨイさんが楽しみにしていたのは、【旅のしおり】の【2日目】にある④の「一乗谷遺跡」です。この遺跡と資料館を見学した時のヤヨイさんの【見学メモ】の空らん（ A ）・（ B ）にあてはまる言葉を下のア～カからそれぞれ選び、記号で答えなさい。

【見学メモ】

<一乗谷遺跡>


- 1570年、織田信長に敗れた（ A ）大名の一人、朝倉氏の（ B ）の遺跡。
- （ B ）には、通りに沿って朝倉氏の館や武家屋敷、寺院、商人や職人の住む町屋などが整然と区画されている。
- （ B ）の二か所の出入口には「上城戸」と「下城戸」という大きな土手と石垣が設けられ、出入りする人や物を監視したり制限したりできる。  
→（ A ）時代なので、敵に攻められたときの防衛のため
- 遺跡から発掘されたもの…食器・着物・仏像・茶道具・武器 など

ア. 守護      イ. 戦国      ウ. 奉行      エ. 港町      オ. 門前町      カ. 城下町

- (3) 【旅のしおり】の【3日目】を見て考えましょう。北陸新幹線の現在の上り列車の始発駅がある（ ① ）は、江戸時代は前田氏が支配していました。江戸時代の政治について、次の各問いに答えなさい。

問1 前田氏は1600年の戦いの後に徳川氏にしたが従った大名です。このような大名を何とよびますか、解答らんにあわせて答えなさい。

問2 下の資料は、前田氏が江戸との間を往復するときの大名行列の図です。このように江戸と領地との間を往復することなど、大名が守るべき決まりを定めたものを何といいますか、漢字5字で答えなさい。



- (4) ヤヨイさんは福井で市立郷土歴史博物館の見学をしていたときに、下の図の人物が福井県小浜市おばまにあった小浜藩の医者であったことを知りました。この人物は、前野良沢らと協力をして、オランダの医学書をほんやく翻訳して出版しました。この人物はだれですか、名前を答えなさい。



- (5) ヤヨイさんは、福井の歴史についてレポートにまとめて発表することにしました。レポートをまとめるときに、やってはいけないことはどのようなことですか、答えなさい。

3. 次のカード①～カード⑤をみて、あとの問いに答えなさい。

カード①

君死にたまふことなかれ  
 ああをとうとよ 君を泣く  
 君死にたまふことなかれ  
 末に生まれし君なれば  
 親のなさはまさりしも  
 親は刃をにぎらせて  
 人を殺せとをしへしや  
 人を殺して死ねよとて  
 二十四までをそだてしや

カード②



欲しが  
 り  
 ませ  
 ん  
 は勝  
 つま  
 まで  
 大政翼賛会

カード③

- 一、下田と函館のほか、神奈川・長崎・新潟・兵庫の港をひらく。
- 一、日本の輸出入品にかかる税金は、アメリカと相談してきめる。
- 一、日本人に対して罪をおかしたアメリカ人は、アメリカの法律に基づいて、アメリカの領事（外交官）が裁判する。

カード④

- 一、政治のことは、会議を開き、よく議論して決めること。
- 一、みんなが力を合わせ、しっかりと政治をすること。
- 一、国民の一人ひとりの望みがかなえられ、みんなが満足してくらしていけるようにすること。
- 一、よくないしきたりをやめること。
- 一、知識を世界からとり入れ、国の発展をはかること。

カード⑤

- 一、朝鮮の独立を認め、台湾などを放棄する。
- 一、千島列島、南樺太と近接の諸島を放棄する。
- 一、沖縄、奄美諸島、小笠原諸島は、アメリカが治めることに同意する。
- 一、日本を占領していた軍隊は、すみやかに引き上げる。ただし、新協定によって、外国の軍隊が日本にとどまることはさまたげない。

(1) カード①について、次の各問いに答えなさい。


問1 この詩がつくられるきっかけとなった戦争の名前を答えなさい。

問2 この詩がつくられたあとにおきたできごととして、正しいものを次のア～エから1つ選び、記号で答えなさい。

- ア. 下関条約が結ばれ、日本は多額の賠償金を得た。
- イ. 25歳以上のすべての男子が衆議院の選挙権をもった。
- ウ. 新橋と横浜の間に鉄道が開通した。
- エ. 天皇を主権者とした大日本帝国憲法が公布された。

(2) カード②について、この時期の国民の様子としてまちがっている写真を次のア～エから1つ選び、記号で答えなさい。

ア



イ



ウ

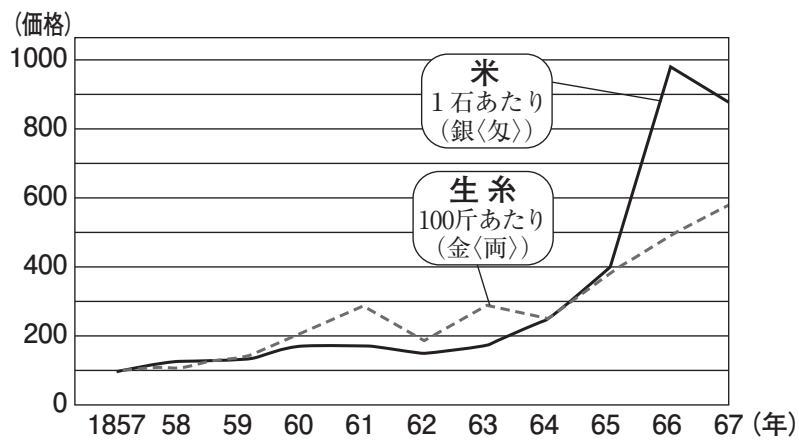


エ



(3) カード③について、次の各問いに答えなさい。

問1 下のグラフはこの頃の物価の変化をあらわしたものです。人々の生活に必要な品物の価格はどうの変化しましたか、答えなさい。また、その理由を説明しなさい。



問2 この条約の不平等な点を改正することに成功した人物を次のア～エから1人選び、記号で答えなさい。

- ア. 小村寿太郎      イ. 伊藤博文      ウ. 板垣退助      エ. 木戸孝允

(4) カード④は、新しい政府による政治の基本方針をあらわしています。次の各問いに答えなさい。

問1 この方針は、ある人物が神前で誓うという形式で発表されました。ある人物とはだれですか、答えなさい。

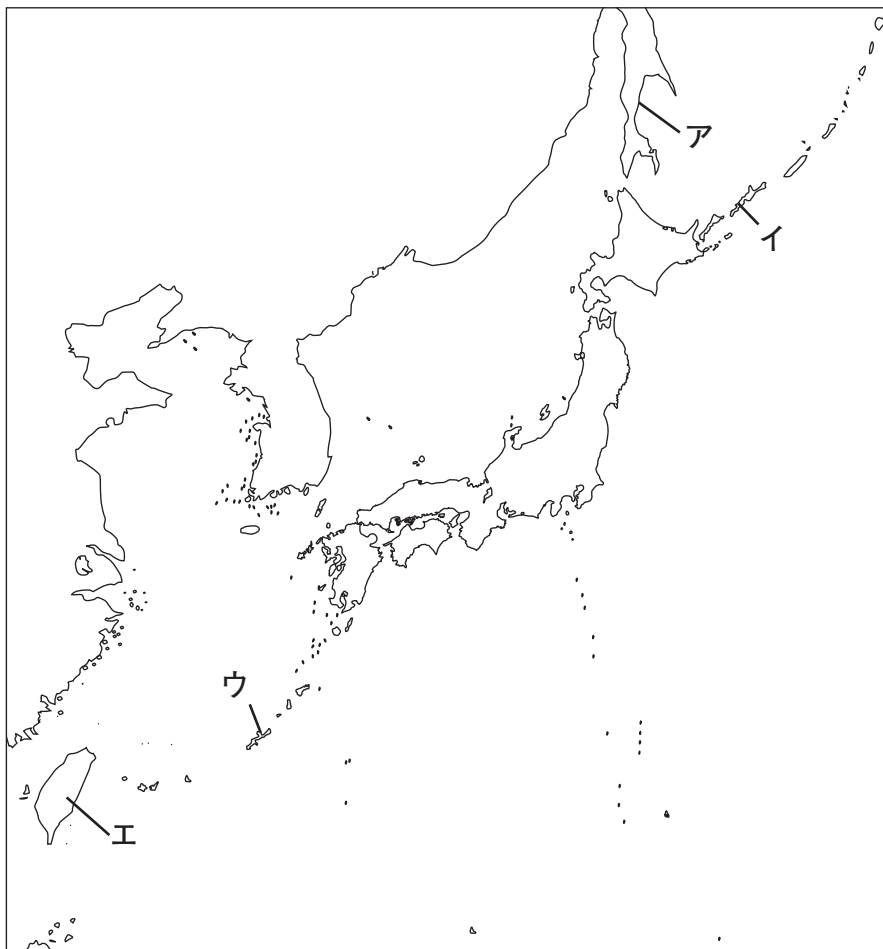
問2 この方針にもとづいてつくられた新しい政府がおこなったこととして、まちがっているものを次のア～エから1つ選び、記号で答えなさい。

- ア. 国の収入を安定させるため、土地の耕作者に決まった量の米を納めさせた。
- イ. 20歳以上の男性に3年間軍隊に入ることを義務づけた。
- ウ. 藩を廃止し、府・県を置き、政府の任命した役人が知事となった。
- エ. 北海道に貧しい士族や農民を移住させ、開拓を進めた。

(5) カード⑤について、次の各問いに答えなさい。

問1 この条約の名前を答えなさい。

問2 台湾の位置を下の地図中のア～エから1つ選び、記号で答えなさい。



(6) カード①～⑤を年代の古い順に並べかえたとき、カード③の次にくるカードはどれですか、①～⑤の番号で答えなさい。

<問題は次ページに続きます。>

4. 次の文章を読んで、あとの問いに答えなさい。

昨年の夏、①リオデジャネイロで開かれたオリンピックと同じ会場を利用して、障がい者スポーツの国際大会の（ ）が開かれました。


この大会のはじまりは、第2次世界大戦で負傷した兵士など、車いすで生活をしている人たちの治療のため<sup>ちりょう</sup>に開かれたアーチェリー大会だといわれています。1948年の②ロンドンオリンピックの開会式と同じ日に、病院でおこなわれた小さな大会でした。1960年にオリンピックが開かれたローマでは国際的な大会となり、1964年の東京大会では、車いす使用者以外の障がい者も参加する大会になりました。その後、参加者や競技数が増え、1988年の③ソウル大会から（ ）という名前が正式に使われるようになりました。

この（ ）をきっかけに、スポーツという④文化をすべての人が享受<sup>きやうじゆ</sup>できるように、世界の各地で環境の整備がすすめられています。2020年にこの大会が開催<sup>かいさい</sup>される東京では、さまざまな競技のため、⑤だれもが使えるような設備が建設されます。また、夏の暑さにそなえて、道路の温度を下げる工夫がなされています。昨年の夏には、東京都渋谷区の⑥国道246号で、オリンピックのマラソン選手や車いすマラソンの選手が試しに走り、からだに感じる温度や走りやすさを確かめました。沿道<sup>おうえん</sup>で応援する人たちのために木陰<sup>こかげ</sup>をつくることも提案されています。さらに、⑦外国人にもわかりやすい地図記号や案内板もつくられています。

世界各国の人々が集う<sup>つど</sup>（ ）を通じて、人に優しい共生社会を身近に感じることができるでしょう。

(1) 文章中の空らん（ ）に共通してあてはまる言葉をカタカナで答えなさい。

(2) 下線部①～③の都市がある国の旗を次のア～オからそれぞれ選び、記号で答えなさい。



(3) 下線部④について、このことを説明する以下の文中の空らん（ A ）・（ B ）にあてはまる言葉をそれぞれ答えなさい。

日本国憲法では、すべての国民が「（ A ）で文化的な最低限度の生活を営む権利を有する」など、基本的人権を「侵すことのできない（ B ）の権利」として保障しています。

(4) 下線部⑤について、道路や建物の段差をなくしたり、社会のしくみを工夫するなど、さまたげをなくすことを何といいますか、解答らんにあわせて答えなさい。

(5) 下線部⑥について、国道の整備を担当する行政機関を次のア～オから1つ選び、記号で答えなさい。

- ア. 経済産業省      イ. 国土交通省      ウ. 文部科学省      エ. 環境省      オ. 総務省



(6) 下線部⑦について、下の地図記号は何をあらわしますか、次のア～オから1つ選び、記号で答えなさい。

これまでの地図記号	新しくつくられた地図記号
	

ア. ホテル

イ. 駅

ウ. 学校

エ. 交番

オ. 郵便局