

1 . 日本の工業に関する次の文章を読んで、あとの問いに答えなさい。

日本にはさまざまな工業製品があふれ、それらによって豊かで便利な暮らしをおくることができます。いつごろから日本で工業がさかんになったのでしょうか。

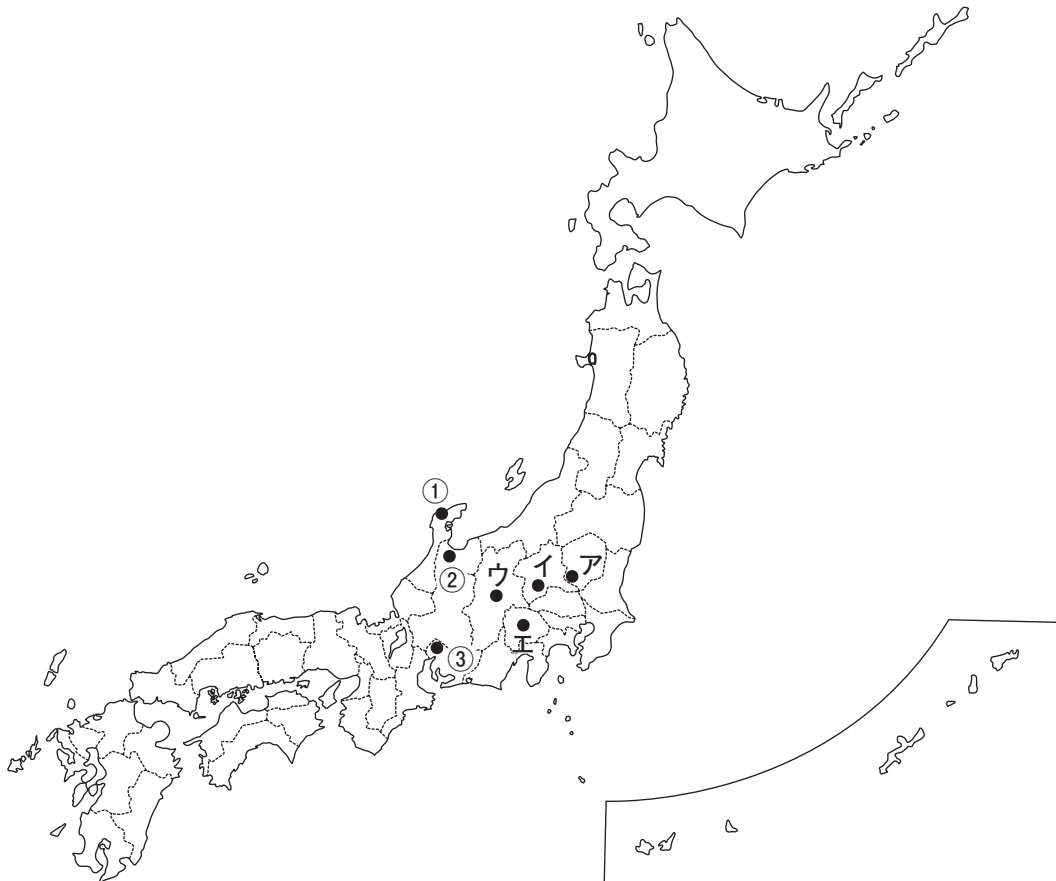
江戸時代の末ごろ、問屋制家内工業から工場制手工業へと発展し、明治時代になると富国強兵をめざして、(1)の政策を進めました。その政策によって、国の費用で外国から機械を買い入れ、技術者を招いて官営工場が建設されました。その中の1つが昨年6月に(2)に登録された 富岡製糸場 でした。1901年には官営の(3)が開業し、せんい工業だけではなく、重工業もしだいに発達していくようになりました。

第1次世界大戦では戦場にならなかった日本へ外国から注文が増えたことで、工業がますます発達していきました。四大工業地帯ができたのもこのころです。しかし、第2次世界大戦で日本の工業は大きな被害を受けました。その後はさまざまな政策や(4)戦争の特需とくじゆなどにより戦前の水準まで少しずつ復興していきました。

やがて、外国から新しい技術の導入、独自の技術の開発、勤勉な労働力により工業国になっていきました。しかし、公害の発生や1973,1979年の2度にわたる(5)により、工業や生活は大きな影響を受けました。その後はより高度な技術を使った工業や省エネルギー型の製品を開発するなどして乗り切り、有数の先進工業国として現在に至っています。また、日本の 伝統工芸品に対して世界からの注目も高まっています。

文章中の空らん(1)～(5)にあてはまる言葉を答えなさい。

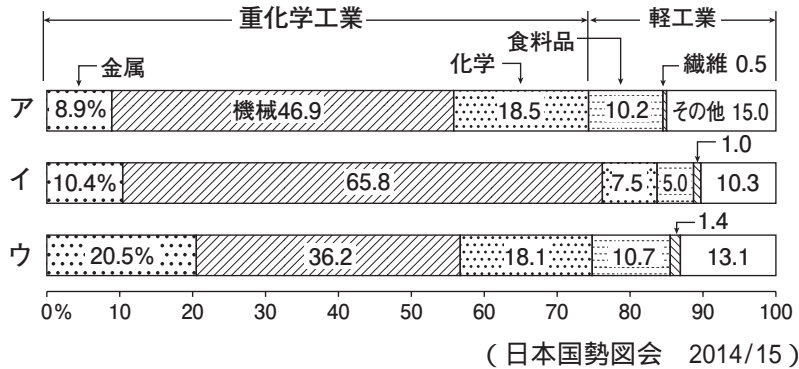
下線部 について、その位置を下の地図中のア～エから1つ選び、記号で答えなさい。



下線部 について、生糸と関係のある地図記号を次のア～オから1つ選び、記号で答えなさい。

ア. ∴ イ. Y ウ. ○ エ. Ω オ. Λ

下線部 について、下の表のア～ウは2012年の中京，京浜，阪神各工業地帯の製造品出荷額等の構成の割合をあらわしています。中京工業地帯をあらわしているものはどれですか、ア～ウから1つ選び、記号で答えなさい。



下線部 について、次の問いに答えなさい。

問1 伝統工芸品のマークを次のア～オから1つ選び、記号で答えなさい。



問2 次の工程によってできる工芸品の産地と左の地図中の位置(①～③)の組み合わせとして正しいものを次のア～カから1つ選び、記号で答えなさい。

<工程>

木地造り 下地造り うるし漆を塗る 飾りを加える

	ア	イ	ウ	エ	オ	カ
産地	一宮	高岡	輪島	一宮	高岡	輪島
位置	③	①	③	②	②	①

下の表のア～エは2011年のアメリカ合衆国，カナダ，日本，フランスの発電電力量をあらわしています。
日本の発電電力量をア～エから1つ選び，記号で答えなさい。

	合計 (億 kWh)	火力 (%)	水力 (%)	原子力 (%)	新エネルギー (%)
ア	43,496	69.8	7.9	18.9	3.4
イ	11,078	81.9	8.3	9.2	0.7
ウ	6,370	24.5	59.0	14.7	1.9
エ	5,620	9.8	8.9	78.7	2.6

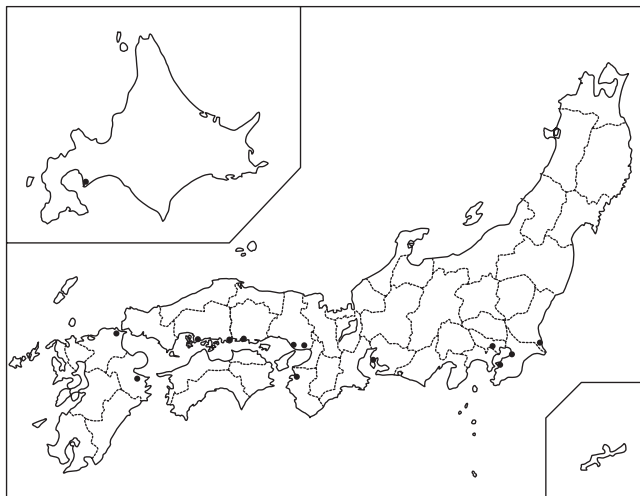
(日本国勢図会 2014/15)

日本の原油の輸入先上位の組み合わせとして正しいものを次のア～キから1つ選び，記号で答えなさい。

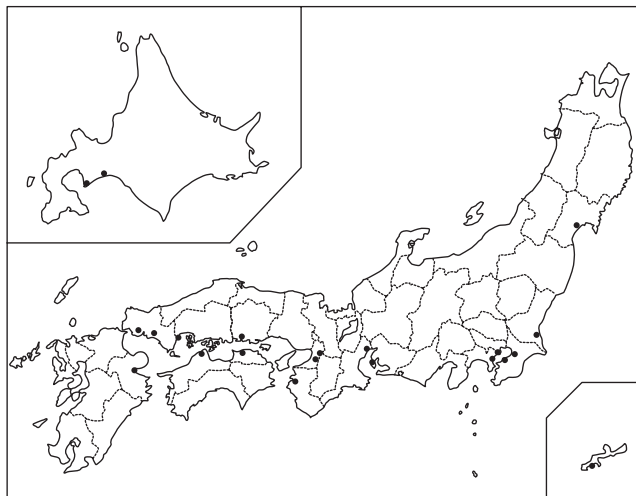
- | | | |
|------------|----------|----------|
| ア．アラブ首長国連邦 | サウジアラビア | 中国 |
| イ．カタール | アメリカ合衆国 | サウジアラビア |
| ウ．オーストラリア | カタール | アラブ首長国連邦 |
| エ．サウジアラビア | アラブ首長国連邦 | カタール |
| オ．中国 | オーストラリア | サウジアラビア |
| カ．アメリカ合衆国 | 中国 | オーストラリア |
| キ．中国 | サウジアラビア | アメリカ合衆国 |

下の地図中のア～エは製油所，製鉄所，セメント工場，半導体工場のいずれかの分布をあらわしています。
半導体工場をあらわしているものはどれですか，ア～エから1つ選び，記号で答えなさい。

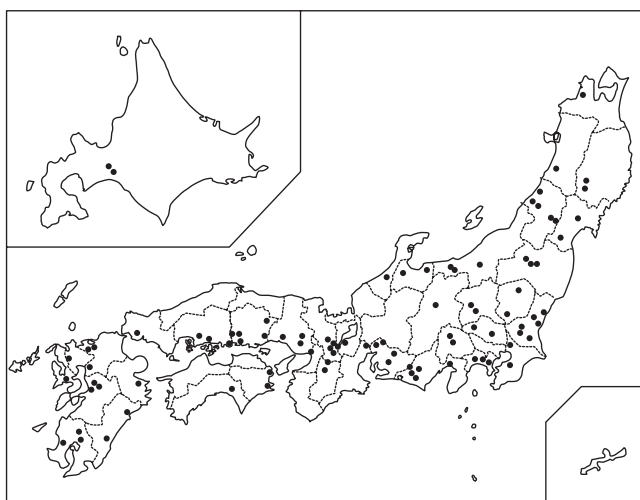
ア



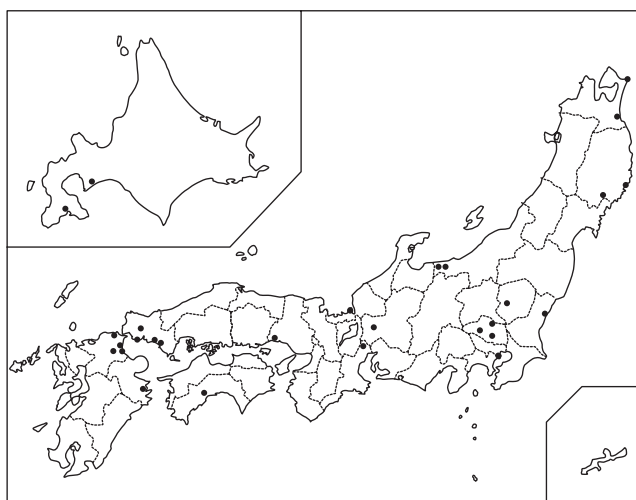
イ



ウ



エ



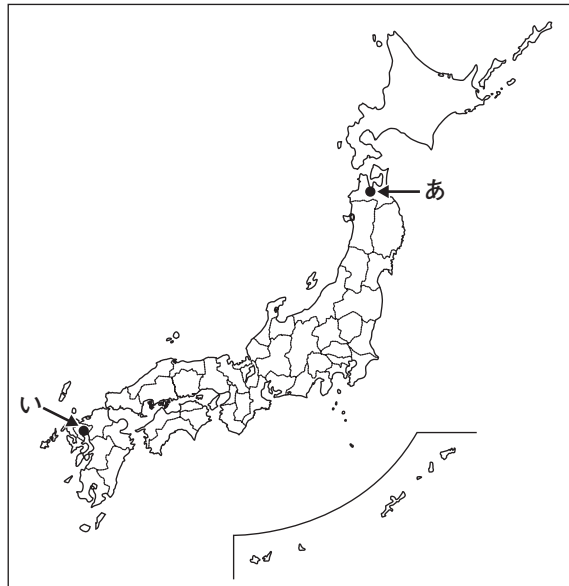
(日本国勢図会 2014/15)

2 . 次のケイコさんとタクオくんの会話を読んで、あとの問いに答えなさい。

ケイコ：日本では 縄文時代にすでに山ブドウなどからお酒をつくっていたことがわかっているのよ。

タクオ：稲作が伝わると、お米を原料としたお酒をつくるようになったみたいだ。中国の歴史書『魏志倭人伝』には当時の日本人が大変お酒好きで、儀式のときに大いにお酒を飲んでいたという記録があるんだ。

下線部 について、下の地図を見て、縄文時代の遺跡の位置と名前の組み合わせが正しいものを次のア～エから1つ選び、記号で答えなさい。



- | | | | |
|--------|-----------|--------|-----------|
| ア．位置：あ | 名前：吉野ヶ里遺跡 | イ．位置：あ | 名前：三内丸山遺跡 |
| ウ．位置：い | 名前：吉野ヶ里遺跡 | エ．位置：い | 名前：三内丸山遺跡 |

下線部 について、この資料の中には、女王卑弥呼が治めていたある国が、30ほどの国を従えていたことが書かれています。このある国とは何という国ですか、名前を答えなさい。

タクオ：奈良時代の資料には、米を原料としてお酒をつくっていた記録があるんだ。

ケイコ：平安時代の資料にもお酒の種類や作り方が記されているわ。お酒の作り方は、今と大きくは変わらないみたい。

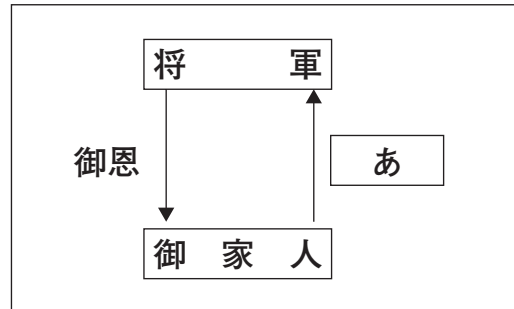
下線部 について、まちがっているものを次のア～エから1つ選び、記号で答えなさい。

- ア．雪舟は水墨画のすぐれた作品を多く残した。
- イ．『古事記』、『日本書紀』がつくられた。
- ウ．都の東西に市が置かれ、日本各地の品物が売られていた。
- エ．正倉院の宝物の中にはペルシアなどの影響がみられる品物もある。

下線部 について、平安京に都を移した天皇の名前を答えなさい。

タクオ：鎌倉時代になると、鎌倉幕府や寺院に許可された酒屋がお酒をつくるようになり、市で取引されるようになった。だけれども幕府はさまざまな理由から、たびたび禁止令を出したことがわかっているよ。
 ケイコ：室町幕府は、豊かになり金融業もおこなうようになっていた酒屋に注目し、税をかけるようになったのよ。

下線部 について、下の図は鎌倉幕府の将軍と御家人の関係をあらわした図です。空らん にあてはまる言葉を答えなさい。



ケイコ：1549年、日本に初めてキリスト教を伝えた宣教師（ 1 ）が日本のお酒に関する記録を残しているわ。彼は日本のお酒は値段が少々高いと言っているのよ。
 タクオ：15世紀の後半から16世紀にかけて、東南アジアから琉球を通じて、お酒を蒸留する新しい製法が伝わってきたんだ。

上の会話文中の空らん（ 1 ）にあてはまる人物の名前を答えなさい。

タクオ：江戸時代になると大阪湾沿岸がお酒づくりで有名になるんだ。1730年からは専用の（ 2 ）廻船という船で江戸へと運ばれた。
 ケイコ：当時は雑菌の少ない冬にお酒づくりの仕込みをすることが多かったんだけど、この時期には多くの農民たちがやとわれていたのよ。彼らの一部は、後に専門の酒づくり集団「杜氏」へと発展していったのよね。

会話文中の空らん（ 2 ）にはお酒を運ぶときに使用された容器の名前が入ります。次のア～エから1つ選び、記号で答えなさい。

- ア．俵 たわら イ．瓶 びん ウ．樽 たる エ．筒 つつ

下線部 について、この時期に農民たちが出かせぎにやって来ることができたのはなぜですか、説明しなさい。

3 . 次の文章や絵図について、あとの問いに答えなさい。

1868年、江戸幕府に代わって、天皇を中心とした政府がつくられました。政府は五箇条の誓文を發表し、政府の方針を示しました。また、政府は 北海道の開拓に力を入れており、仕事を失った武士などを(1)として原野の開拓と北方の警備にあたらせました。

文章中の空らん(1)にあてはまる言葉を答えなさい。

下線部 の政策である版籍奉還とはどのようなことですか、解答らんにしたがって答えなさい。

下線部 について、この地域にもともと住んでいましたが、日本の平民とされ、土地や漁場などの権利をうばわれたり、日本語の使用や日本名を強要された民族を答えなさい。

下の絵図は1886年におこったある事件^{ふうし}を風刺しています。この事件を答えなさい。



の事件の後、日本では条約改正を求める声ますます強くなっていきました。1894年にイギリスとの条約の一部改正を成功させた人物の名前を答えなさい。

日露戦争の後、日本が韓国に対する支配を強めていくと、日本の動きに反発する人々の運動が occurred。こうしたなか、韓国の青年安重根によって(2)が暗殺される事件も occurred が、翌年日本は 韓国 を併合しました。

文章中の空らん(2)にあてはまる人物の名前を答えなさい。

下線部 について、日本による朝鮮半島の支配は何年間続きましたか、次のア～エから1つ選び、記号で答えなさい。

ア．26年間 イ．36年間 ウ．46年間 エ．56年間

1931年、満州にいた日本軍は(3)の線路を爆破し、これを中国軍のしわざだとして中国と戦いはじめ、満州国を建国しました。

これに対して中国は、この日本の動きは侵略であると(4)に訴えました。調査の結果、(4)の総会も満州国を認めないと決議しました。この決議にただ一国だけ反対した日本は(4)を脱退し、国際社会のなかで孤立を深めていきました。そして中国東北部に勢力を広げていきました。1937年、(5)郊外の盧溝橋にて両軍は衝突し、日中戦争が始まりました。

文章中の空らん(3)～(5)にあてはまる言葉を答えなさい。

第2次世界大戦が終わると、日本は連合国軍に占領され、民主化が進められました。

下線部 について、戦後の改革としてまちがっているものを、次のア～エからすべて選び、記号で答えなさい。

- ア．満20歳以上の男性のみに選挙権が与えられた。
- イ．小学校6年間、中学校3年間の義務教育となった。
- ウ．労働組合の結成がすすめられた。
- エ．徴兵制を導入した。

4 . 次の文章は中学生のサクラさんのスピーチの一部です。これを読んで、あとの問いに答えなさい。

私たちは、学校や地域社会での日々の生活を通じて民主政治のしくみを体験しているといえます。私たち一人一人は、かけがえのない存在であり、まわりの人たちとの協力によって得られる社会的な利益を大切にし、主体的に判断し行動することが期待されています。そして、私たち 中学生などの未成年にも自分たちの意見を表明する権利があり、これは国際的にも認められています。

私は将来、選挙はもちろん、身近な政治に積極的にかかわることができるよう、地域社会にも国際社会にも関心を持ち、多くのことを学び、体験していきたいと思っています。

次の文中の空らん(1) ~ (3) にあてはまる言葉を答えなさい。

日本国憲法には、「すべて国民は、(1)として尊重される。」とし、国民に保障する権利については、国民の(2)の努力による保持と、公共の(3)のために利用する責任が明記されています。

下線部 について、この権利を保障している1989年に国際連合で取り決められた条約の名前を答えなさい。

下線部 について、次の問いに答えなさい。

問1 地方議会の議員を選ぶ権利が得られる年齢を答えなさい。

問2 次の文 ~ が説明する言葉を、下のア~オから1つずつ選び、記号で答えなさい。

国会が発議した憲法改正案を承認する。

住民が署名を集めて地方議会議員の解職を求める。

最高裁判所裁判官が適任かどうかを判断する。

ア．住民投票 イ．リコール ウ．国民審査 エ．国民投票 オ．不信任決議